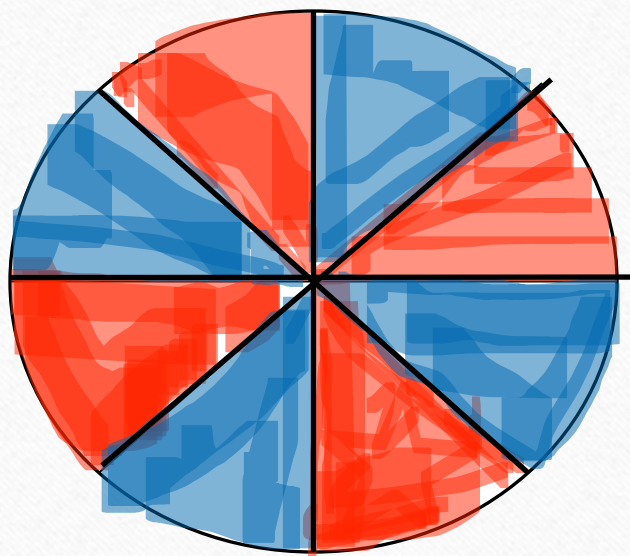


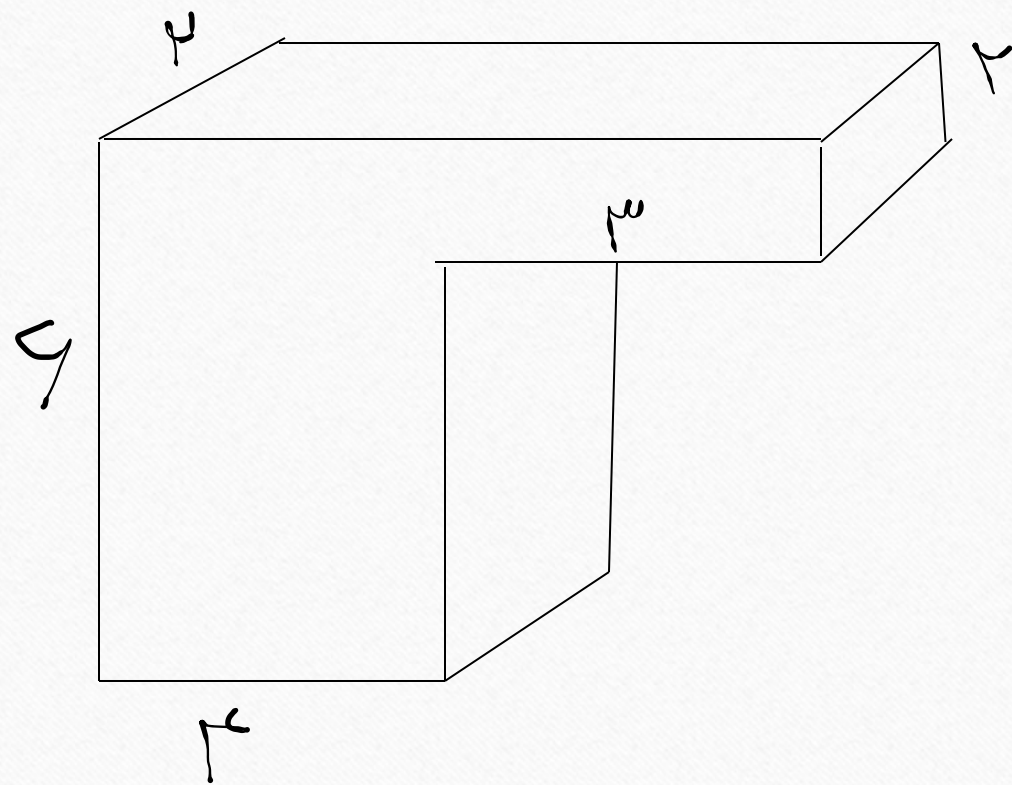
چرخنده را می چرخانیم اگر روی آبی بایستد زهرا و اگر روی قرمز بایستد مریم برنده است.
آیا این بازی عادلانه است؟ چرا؟



وزن یک بسته چای ۰/۹۵۰ کیلوگرم است. وزن ۶ بسته از این نوع چای چند کیلوگرم است؟

وقتی شعاع دایره ۴ برابر می شود. محیط دایره چند برابر می شود؟

حجم شکل زیر را بیابید.



علی مسئول آزمایشگاه است. او هر روز ساعت ۲۶' ۱۴ ۷ صبح از منزل خارج می شود و به محل کارش می رود و ساعت ۱۳' ۱۸ ۴ بعد از ظهر به منزل برمی گردد. او چه مدت در خارج از خانه سپری می کند؟

جاهای خالی را پر کنید.

الف) مثلث متساوی الاضلاع خط تقارن دارد.

ب) محیط دایره ای به شعاع ۴۰۰ سانتی متر = سانتی متر

ج) $\frac{4}{8}$ لیتر = سانتی متر مکعب

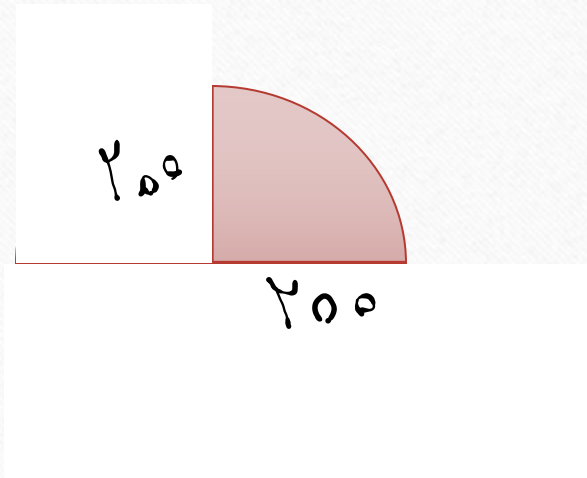
د) ۷۵۰ میلی لیتر = لیتر

ه) $1\frac{2}{5}$ لیتر = سی سی

$\frac{1}{8}$ گنجایش ظرفی با ۱۲۵ سی سی آب پر شده است . گنجایش تمام ظرف چند لیتر است؟

گنجایش یک بشکه ۹۶۰۰۰ سی سی است . می خواهیم مایع درون این بشکه را در ظرف های ۴ لیتری بریزیم چند ظرف ۴ لیتری پر می شود؟

محیط شکل زیر را بیابید.



جدول داده های زیر مربوط به کتاب های یک کتابخانه است. نمودار دایره ای برای آن رسم کنید.

نوع کتاب	علمی	داستانی	مذهبی	هنری
تعداد	۸۰	۴۰	۶۰	۲۰

