



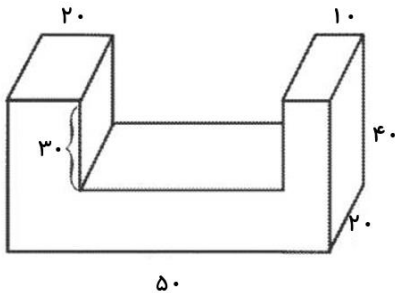
موضوع:

تاریخ

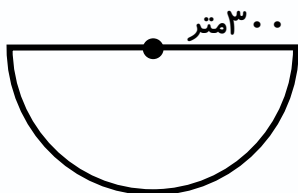
نام و نام خانوادگی

هدف: مرور آموخته‌ها

۱- حجم شکل مقابل چند لیتر است؟ (اندازه‌ها بر حسب سانتی متر هستند.)



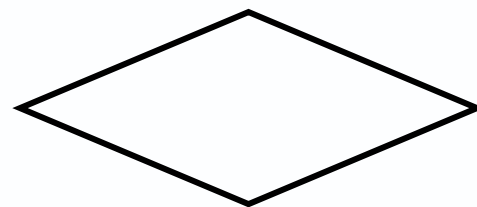
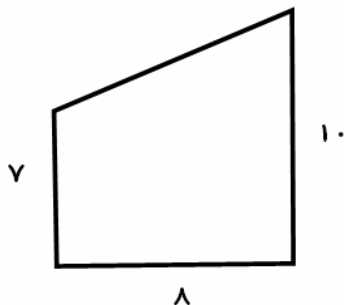
۲- یوحنا می‌خواهد دور زمین زید را حصار بکشد.



الف) او به چند متر حصار نیاز دارد؟

ب) اگر قیمت یک متر حصار ۱۰۰ هزار تومان باشد، او چند تومان باید هزینه در نظر بگیرد؟

۳- مساحت هر کدام از شکل‌های زیر را محاسبه کنید.



قطر بزرگ = ۶

قطر کوچک = ۴

بازخورد:

Four horizontal lines for writing feedback.

