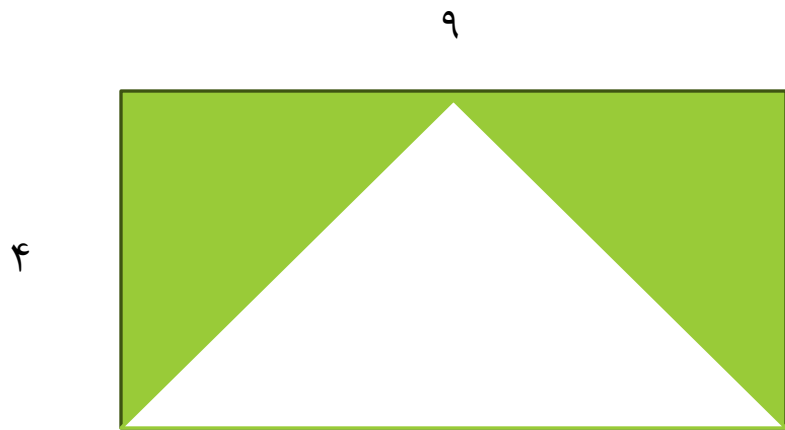
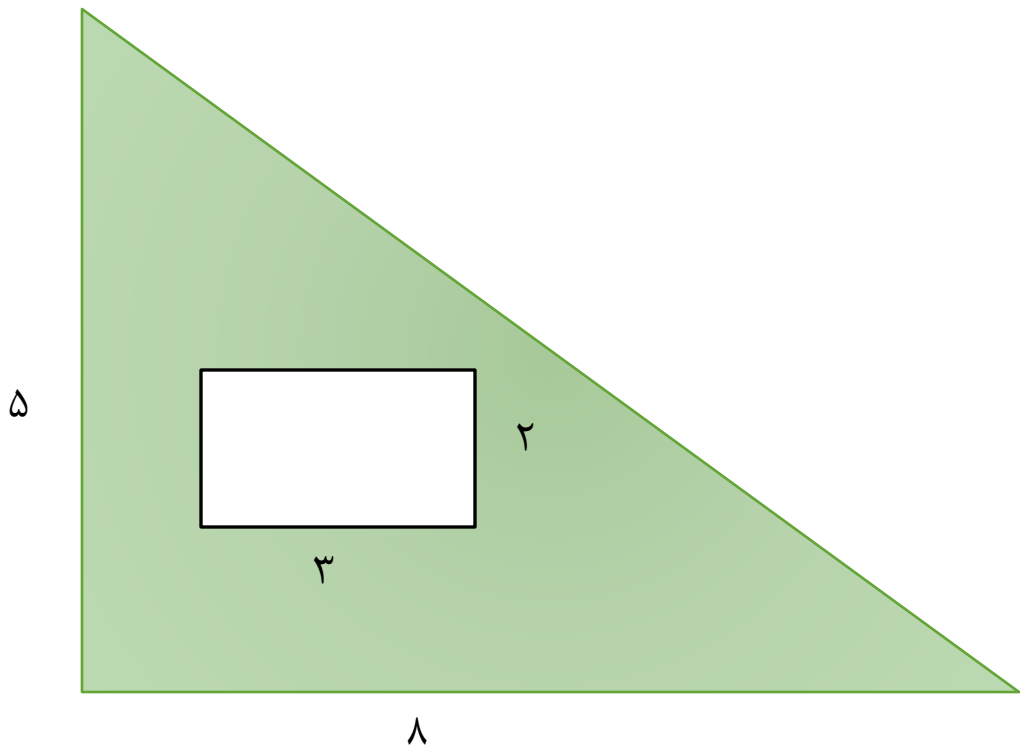
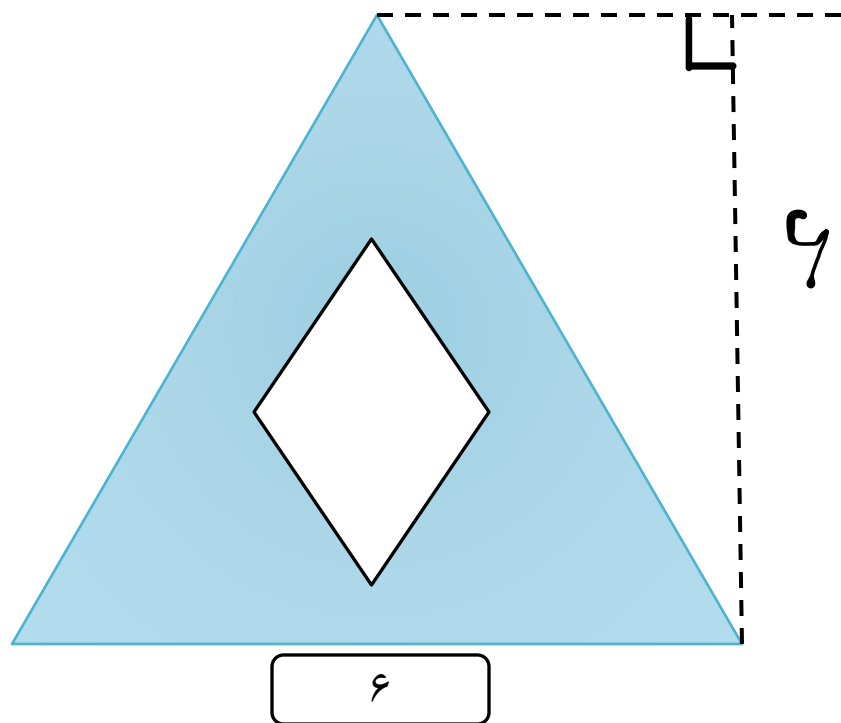


مساحت شکل های زیر را بیابید.

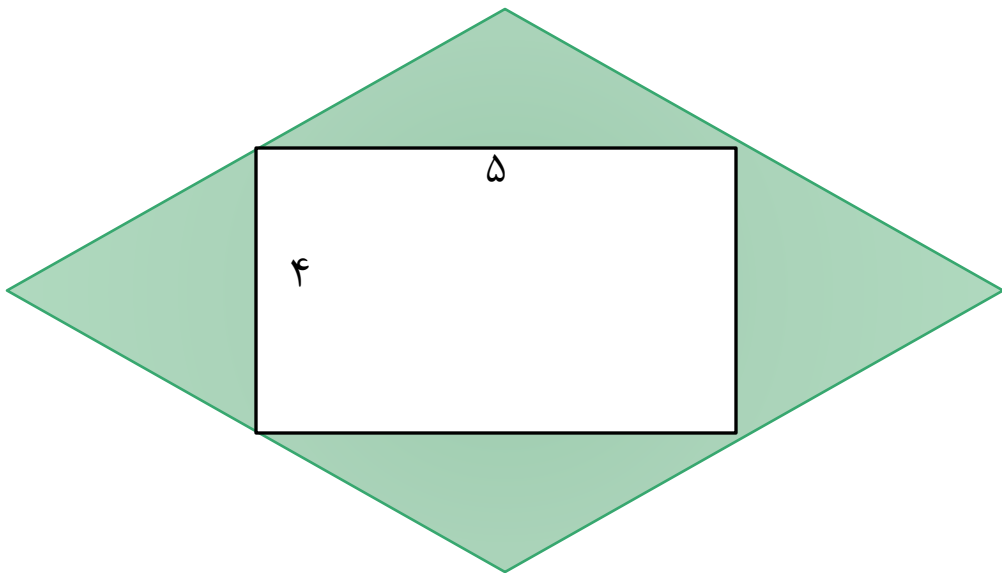






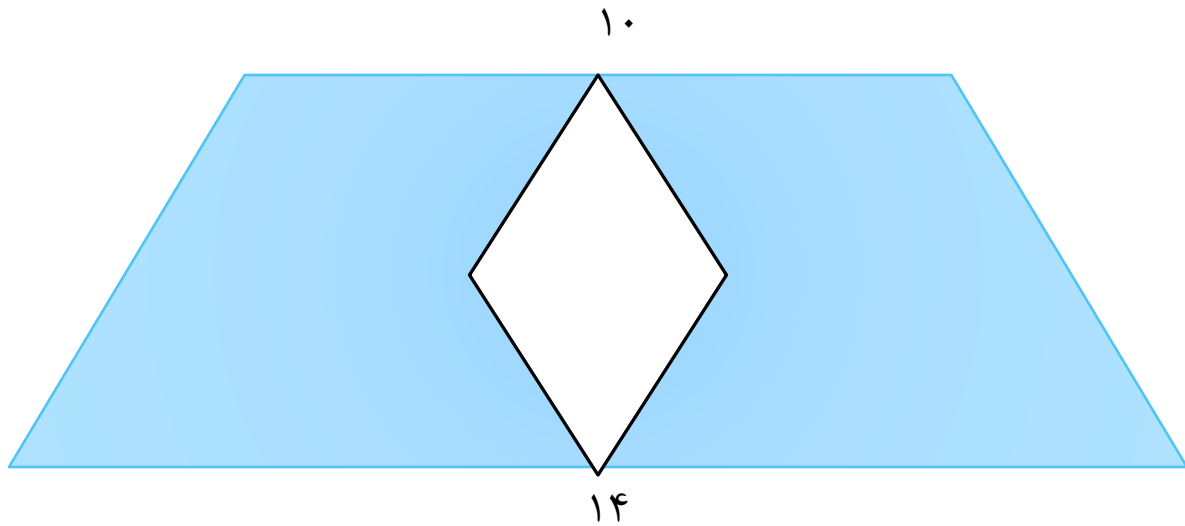
قطر بزرگ لوزی = ۳ س . م

قطر کوچک لوزی = ۲ س . م



قطر بزرگ لوزی = ۱۲

قطر کوچک لوزی = ۸




ارتفاع دوزنقه = ۶ س م
قطر کوچک لوزی = ۳ س م

برای خرید کتابی که قیمت آن ۲۵۰۰۰ تومان است. ۵٪ تخفیف گرفته ایم.
چند تومان باید بپردازیم؟

با هر ۴۰ کیلوگرم انار ۸ کیلوگرم رب انار درست می شود. برای تهیه ی ۱۲ کیلو
گرم رب انار به چند کیلو گرم انار نیازمندیم ؟

میزی داریم به شکل دایره که قطر آن ۲۸ سانتی متر است. می خواهیم برای رومیزی این میز ۴ دور نوار بدوزیم. چند متر نوار نیاز داریم؟

محیط شکل زیر را بیابید.



مادری ۱۶ متر پارچه ی پرده ای خرید اگر برای هر پرده $\frac{2}{3}$ متر پارچه مصرف شود، با این پارچه چند پرده می تواند بدوزد؟