



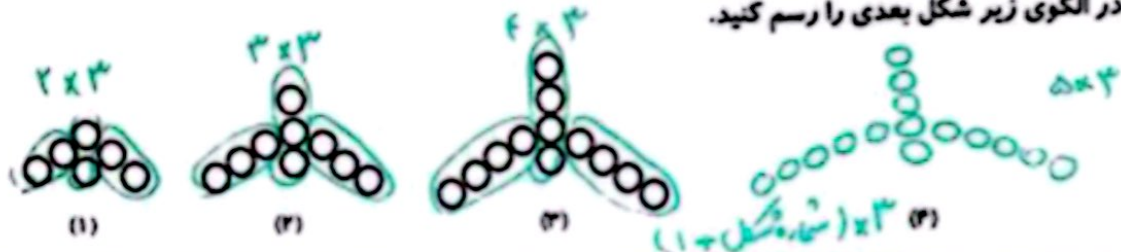
موضوع:

تاریخ:

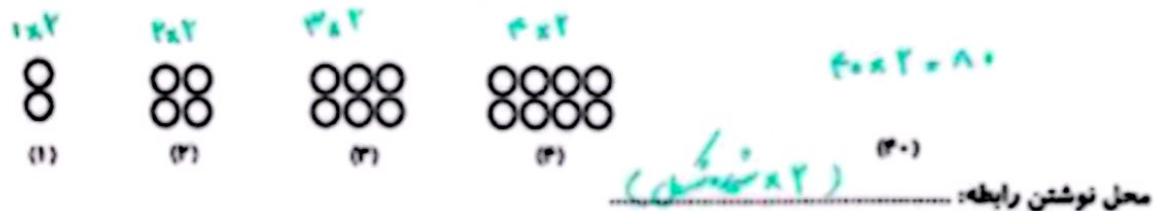
نام و نام خانوادگی:

هدف:

۶. در الگوی زیر شکل بعدی را رسم کنید.



۷. الگوی شکل زیر را پیدا کن و بدون رسم شکل بگو شکل چهلم از چند دایره ساخته شده است؟




محل نوشتن رابطه:

۸. به الگوی زیر توجه کنید و بنویسید که شکل سیام از چند دایره تشکیل شده است؟



محل نوشتن رابطه:

۹. پنجمین شکل الگوی زیر چند دایره دارد؟



محل نوشتن رابطه:

۱۰. در الگوهای هندسی زیر تعداد چوب کبریت‌ها و تعداد دایره‌های شکل پنجاهم را محاسبه کنید.



تعداد چوب کبریت‌های شکل پنجاهم:

محل نوشتن رابطه:



تعداد دایره‌های شکل پنجاهم:

محل نوشتن رابطه:

