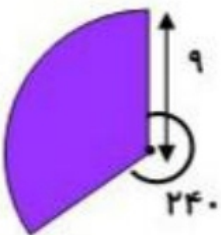
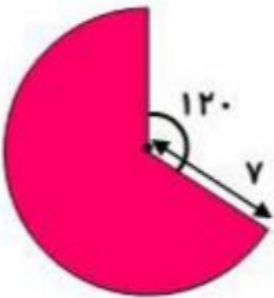
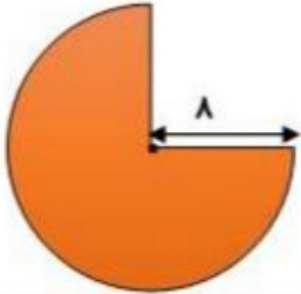
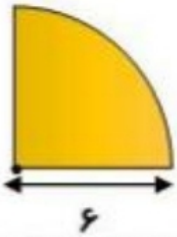
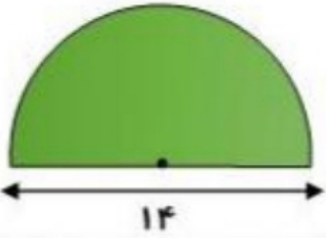
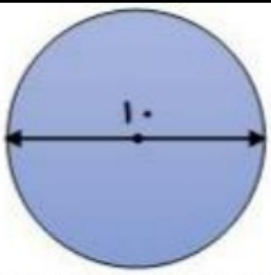
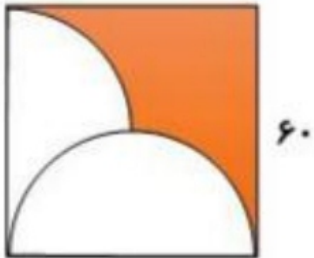
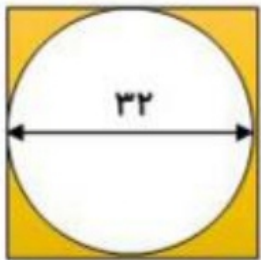
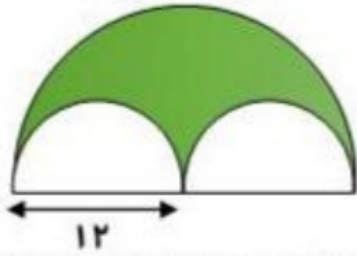
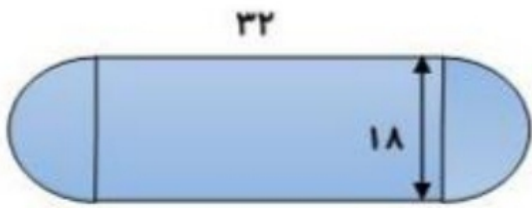


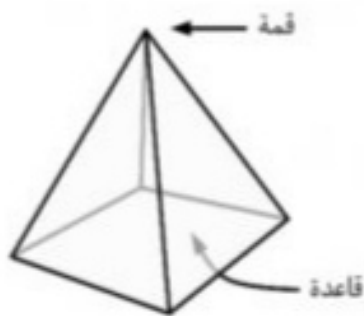
مساحت و محیط شکل های زیر را بدست  
آورید



مساحت قسمت های رنگی را محاسبه کنید




شکل های مختلف ستون الف را به عناوین مناسب ستون ب وصل کنید.



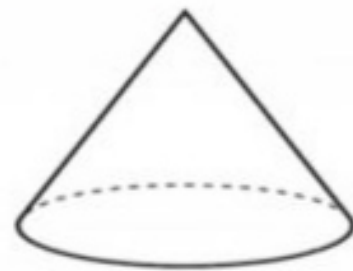
هرم



مخروط



استوانه



کره

جواب صحیح را از داخل پرانتز انتخاب کرده و در جای خالی بنویسید.

الف) ۵ کیلوگرم برابر با ..... ( ۵۰۰ گرم - ۰/۰۰۵ تن ) است.

ب) حجم یک جعبه دستمال کاغذی را با واحد ..... ( متر مکعب - سانتی متر مکعب ) اندازه گیری می کنند.

ج) ۸ متر مکعب یعنی ..... ( ۸۰۰۰ لیتر - ۸۰۰۰۰ لیتر )

د) هزار سانتی متر مکعب برابر است با ( ۱۰۰۰ سی سی - ۰/۰۰۱ لیتر )

ه) حجم یک قوطی کبریت ۰/۰۱۵ ..... ( دسی متر مکعب - سانتی متر مکعب ) است.

تبدیل واحدهای زیر را انجام دهید.

الف) ۱۲/۵ تن چند کیلوگرم است؟ .....

ب) ۸۰۰ گرم چند کیلوگرم است؟ .....


پ) ۵ کیلومتر مکعب چند متر مکعب است؟ .....

ت) ۶۰۰۰۰ دسی متر مکعب چند متر مکعب است؟ .....

ث) ۸۰۰ سی سی چند گرم است؟ .....

ج) ۲۰ متر مکعب چند سانتی متر مکعب است؟ .....

چ) ۲۵۰۰۰ سی سی چند لیتر است؟ .....

حجم اجسام زیر را به دست آورید. ( واحد حجم  است )

