

$$933 + 17008 = 9117006$$

۷- حاصل زیر را به دست آورید.

۱۷	
۱۸	$\times 2$
۱۰	$+ 1$


	$\times 2$	$- 2$
		۴
		۷
		۳

۸- ورودی و خروجی ماشین را بنویسید.

۹- الگوی بعدی اعداد مقابل را بنویسید.

۵ و ۷ و ۱۰ و ۱۴ و ...


۱۰- الگوی زیر را بنویسید.




(۱)



(۲)



(۳)



(۴)