



# پهتارم دبستان



مقبره خيام نيشابوري، رياضيدان و شاعر ايراني

۱۵

فصل اول  
صفحه ۴ و ۵  
کتاب ریاضی



## عدد نویسی

۱- الگوی شمردن ۱۰۰۰ تا ۱۰۰۰ تا را ادامه دهید.

۱۰۰۰ و ۲۰۰۰ و — و — و — و — و — و — و —



فعالیت

## عدد نویسی

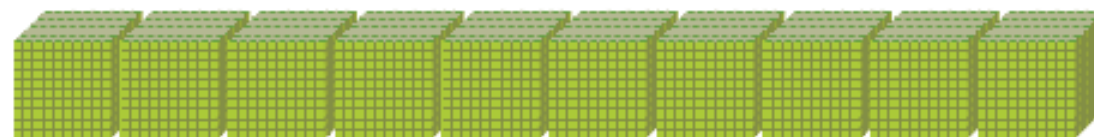

۱- الگوی شمردن ۱۰۰۰ تا ۱۰۰۰ تا را ادامه دهید.

۱۰۰۰ و ۲۰۰۰ و ۳۰۰۰ و ۴۰۰۰ و ۵۰۰۰ و ۶۰۰۰ و ۷۰۰۰ و ۸۰۰۰ و ۹۰۰۰





۲- هر مکعب نشان دهنده ی عدد ۱۰۰۰ است. عددی را که هر شکل نشان می دهد، بنویسید.



۱۰۰۰۰ (یک ده هزار تایی)

اگر ۱۰ مکعب ۱۰۰۰ تایی را کنار هم قرار دهیم، چه عددی درست می شود؟

با رقم: ۱۰۰۰۰

با حرف: \_\_\_\_\_

۲- هر مکعب نشان دهنده‌ی عدد ۱۰۰۰ است. عددی را که هر شکل نشان می‌دهد، بنویسید.



۱۰۰۰



۴۰۰۰



۵۰۰۰

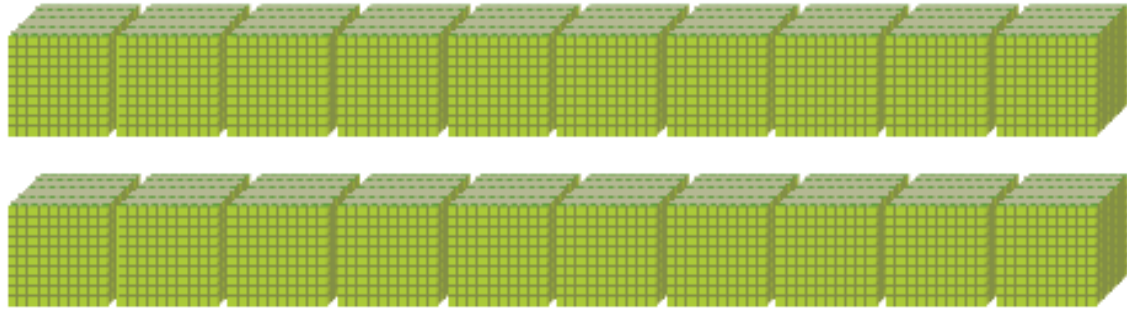


۱۰۰۰۰ (یک ده‌هزارتایی)

اگر ۱۰ مکعب ۱۰۰۰ تایی را کنار هم قرار دهیم، چه عددی درست می‌شود؟

با حرف: ده هزار      با رقم: ۱۰۰۰۰





۳- شکل مقابل چه عددی را نشان می دهد؟

با حروف : \_\_\_\_\_

با رقم : \_\_\_\_\_

\_\_\_\_\_



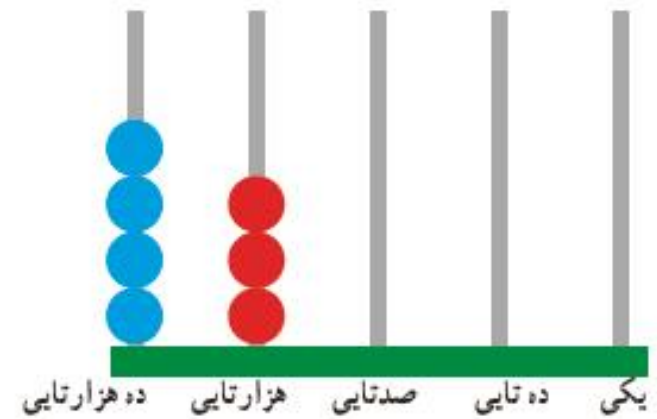
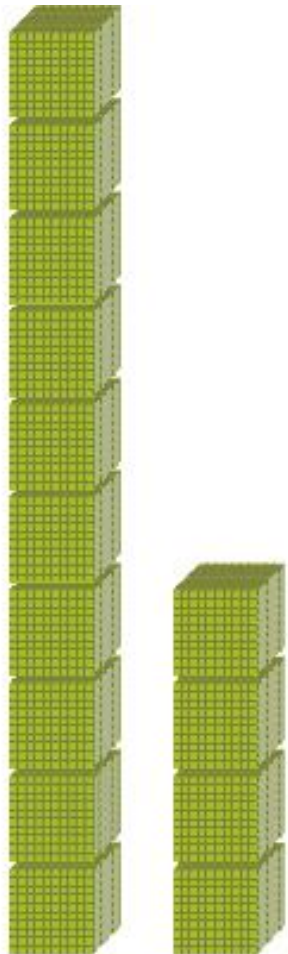
۳- شکل مقابل چه عددی را نشان می‌دهد؟  
۲۰ مکعب ۱۰۰۰ تایی کنار هم قرار گرفته اند پس عدد

۲۰۰۰۰ را نشان میدهد  
با حروف: بیست هزار

با رقم: ۲۰۰۰۰



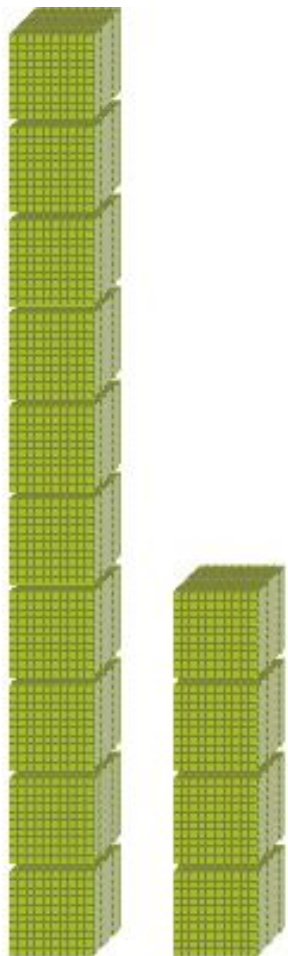
۴- هر یک از شکل های زیر چه عددی را نشان می دهد؟



ریال



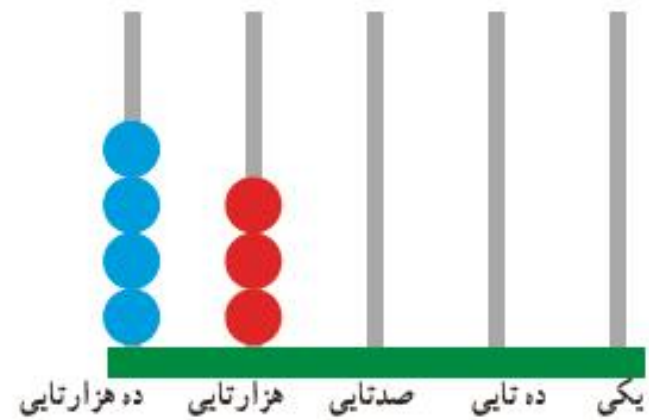
۴- هر یک از شکل های زیر چه عددی را نشان می دهد؟



۱۴۰۰۰



۳۲۰۰۰ ریال



۴۳۰۰۰



۱- عددهایی را که در جدول مشخص شده است، بنویسید.

یکی	ده تایی	صد تایی	هزار تایی	ده هزار تایی
۰	۰	۰	۷	۴

یکی	ده تایی	صد تایی	هزار تایی	ده هزار تایی
۰	۰	۰	۴	۷



بین این دو عدد چه تفاوتی وجود دارد؟

۲- ده هزار، چندتا هزارتاست؟

۳- سی و پنج هزار، چندتا هزارتاست؟

۴- بیست هزار، چندتا هزارتاست؟



۱- عددهایی را که در جدول مشخص شده است، بنویسید.

یکی	ده تایی	صدتایی	هزارتایی	ده هزارتایی
۰	۰	۰	۷	۴

۴۷۰۰۰

یکی	ده تایی	صدتایی	هزارتایی	ده هزارتایی
۰	۰	۰	۴	۷

۷۴۰۰۰

بین این دو عدد چه تفاوتی وجود دارد؟  
 رقم هزارتایی و ده هزارتایی این دو عدد برعکس هم می باشد پس با هم برابر نیستند و با  
 جابجایی ارقام می توان اعداد جدید ساخت

۲- ده هزار، چندتا هزارتاست؟ ده تا

- سی و پنج هزار، چندتا هزارتاست؟ سی و پنج تا





هزار	
دهگان	یکان
۴	۷

۳- با توجه به سؤال‌های بالا، عددی را که در جدول مشخص شده است با عدد و حروف بنویسید.

با رقم: \_\_\_\_\_

با حروف: \_\_\_\_\_

هزار	
دهگان	یکان
۴	۷

۳- با توجه به سؤال های بالا، عددی را که در جدول مشخص شده است با عدد و حروف بنویسید.

با رقم: ۴۷,۰۰۰

با حروف چهل و هفت هزار





هزار	
دهگان	یکان
۵	۳

هزار	
دهگان	یکان
۳	۵

۴- بین این دو عدد چه تفاوتی وجود دارد؟

۴- بین این دو عدد چه تفاوتی وجود دارد؟

رقم یکان هزار و دهگان هزار در جدول ها برعکس هم می باشند این دو عدد با هم برابر نیستند. می توان نتیجه گرفت که با جابجا کردن رقم های یک عدد ارزش مکانی رقم ها تغییر کرده و عدد جدیدی حاصل می شود که با عدد قبلی برابر نخواهد بود.

هزار	
دهگان	یکان
۵	۳

هزار	
دهگان	یکان
۳	۵





۵ - مانند نمونه، گسترده‌ی هر عدد را بنویسید.

$$۵۳۶۷۸ = ۵۰,۰۰۰ + ۳,۰۰۰ + ۶۰۰ + ۷۰ + ۸$$

$$۷۰۰۱۲ =$$

$$۹۹۹۰۰ =$$



۵ - مانند نمونه، گسترده‌ی هر عدد را بنویسید.

$$۵۳۶۷۸ = ۵۰,۰۰۰ + ۳,۰۰۰ + ۶۰۰ + ۷۰ + ۸$$

$$۷۰۰۱۲ = ۷۰,۰۰۰ + ۱۰ + ۲$$

$$۹۹۹۰۰ = ۹۰,۰۰۰ + ۹,۰۰۰ + ۹۰۰$$





۱- الگوی عددی را بخوانید و ادامه دهید.

۱۰,۰۰۰ و ۲۰,۰۰۰ و ۳۰,۰۰۰ و \_\_\_\_\_ و \_\_\_\_\_ و \_\_\_\_\_ و ۷۰,۰۰۰ و \_\_\_\_\_

۲- عددی را که هر شکل نشان می‌دهد، بخوانید و بنویسید.




۱۰,۰۰۰



\_\_\_\_\_



\_\_\_\_\_



\_\_\_\_\_



۱- الگوی عددی را بخوانید و ادامه دهید.

۱۰,۰۰۰ و ۲۰,۰۰۰ و ۳۰,۰۰۰ و ۴۰,۰۰۰ و ۵۰,۰۰۰ و ۶۰,۰۰۰ و ۷۰,۰۰۰ و ۸۰,۰۰۰

۲- عددی را که هر شکل نشان می‌دهد، بخوانید و بنویسید.




۱۰,۰۰۰



\_\_\_\_\_



\_\_\_\_\_



\_\_\_\_\_



۱- الگوی عددی را بخوانید و ادامه دهید.

۱۰,۰۰۰ و ۲۰,۰۰۰ و ۳۰,۰۰۰ و ۴۰,۰۰۰ و ۵۰,۰۰۰ و ۶۰,۰۰۰ و ۷۰,۰۰۰ و ۸۰,۰۰۰

۲- عددی را که هر شکل نشان می‌دهد، بخوانید و بنویسید.




۱۰,۰۰۰



۲۰,۰۰۰



۳۰,۰۰۰



۱۰۰,۰۰۰

خسته نباشيد رياضيدانان پرتلاش و همراه من

