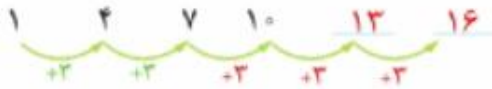


# الگوها



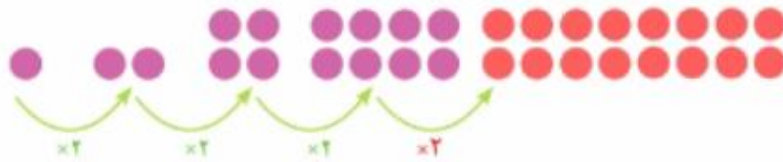
۱- الگوها را مانند نمونه‌ها ادامه دهید. رابطه‌ی بین عددهای هر الگو را توضیح دهید.



هر عدد ۳ واحد بیشتر از عدد قبلی است.



هر عدد ۵ واحد بیشتر از عدد قبلی است.



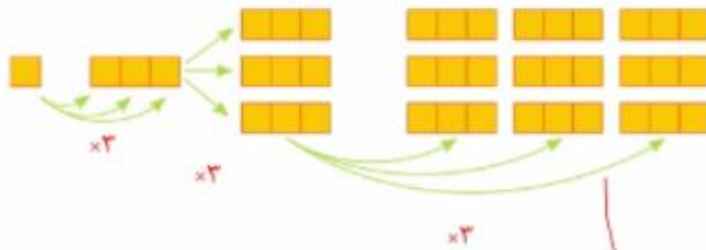
تعداد دایره‌های هر شکل، دو برابر تعداد دایره‌های شکل قبلی است.



هر عدد ۲ برابر عدد قبلی است.



هر عدد ۳ برابر عدد قبلی است.



تعداد مربع‌های هر شکل، سه برابر شکل قبلی است.

۲- الگوهای عددی را ادامه دهید. رابطه‌ی بین عددها را توضیح دهید.



هر عدد ۵ واحد کمتر از عدد قبلی است.



هر عدد ۴ برابر عدد قبلی است.



هر عدد نصف عدد قبلی است.