

حل صفحات
۱۱ تا ۱۲
کتاب کار





۱. در هر الگو عدد بعدی را پیدا کنید.

● ۱۲°, ۲۵°, ۳۸°

● ۹۵°, ۸۰°, ۶۵°

● ۳۹°, ۴۵°, ۵۱°

● ۱۹°, ۲۸°, ۳۷°

● ۵۰°

● ۴۶°

● ۵۱°

● ۵۷°



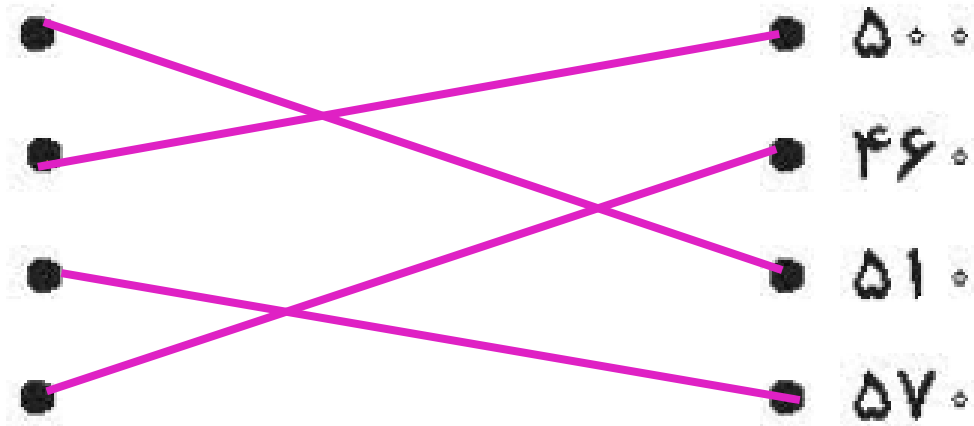
۱. در هر الگو عدد بعدی را پیدا کنید.

$+130$
۱۲۰، ۲۵۰، ۳۸۰

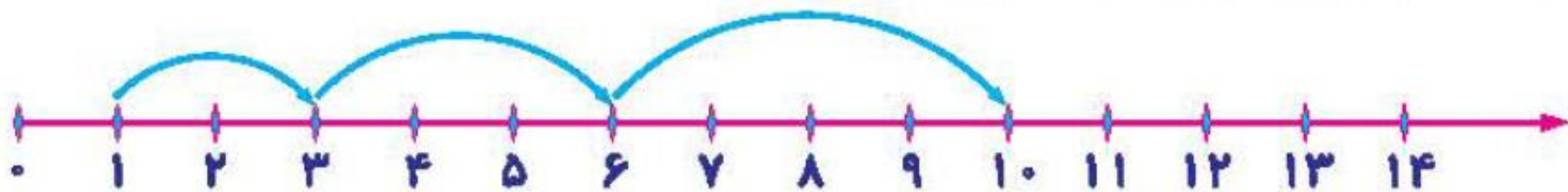
-15
۹۵۰، ۸۰۰، ۶۵۰

$+60$
۳۹۰، ۴۵۰، ۵۱۰

$+90$
۱۹۰، ۲۸۰، ۳۷۰





۲. الگوی مربوط به محور زیر را بنویس. گام ششم این الگو چند است؟

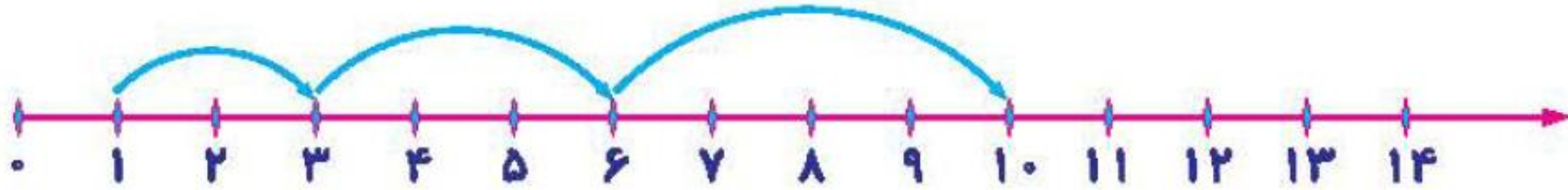


۳. شکل بعدی را بکش و تعداد دایره‌ها را در آن مشخص کن.

الف)



۲. الگوی مربوط به محور زیر را بنویس. گام ششم این الگو چند است؟



۱، ۳، ۶، ۱۰، ۱۵، ۲۱

گام ششم عدد ۲۱ می شود

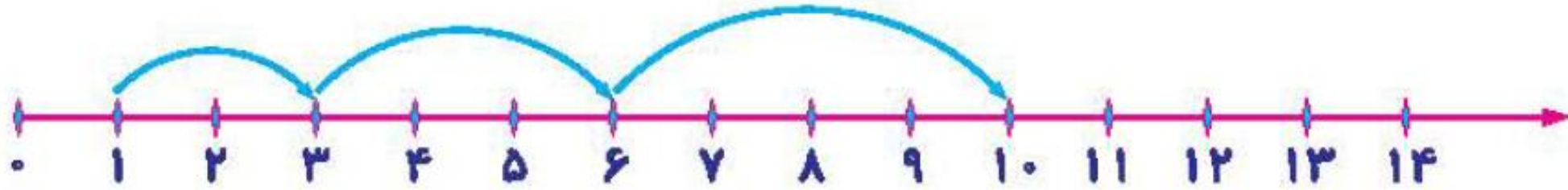
+۲ +۳ +۴ +۵ +۶

۳. شکل بعدی را بکش و تعداد دایره‌ها را در آن مشخص کن.

(الف)



۲. الگوی مربوط به محور زیر را بنویس. گام ششم این الگو چند است؟






۱، ۳، ۶، ۱۰، ۱۵، ۲۱

گام ششم عدد ۲۱ می شود

+۲ +۳ +۴ +۵ +۶

۳. شکل بعدی را بکش و تعداد دایره‌ها را در آن مشخص کن.


(الف)



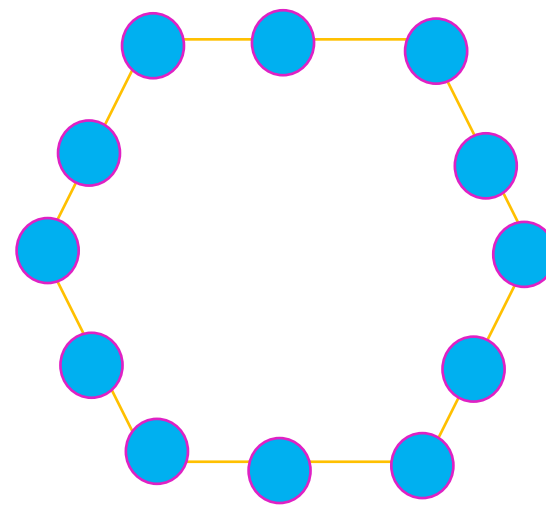


۱۲

۳. شکل بعدی را بکش و تعداد دایره‌ها را در آن مشخص کن.

الف)



ب)



۴. برای الگوهای عددی زیر شکل مناسب رسم کن و الگو را ادامه بده.

الف) ۱, ۴, ۷, , ,



ب) ۵, ۹, ۱۳, , ,



۴. برای الگوهای عددی زیر شکل مناسب رسم کن و الگو را ادامه بده.

الف) ۱ و ۴ و ۷ و ۱۰ و ۱۳ و ۱۶

+۳ +۳




ب) ۵ و ۹ و ۱۳ و ۱۷ و ۲۱ و ۲۵


+۴ +۴




(۵)




(۹)



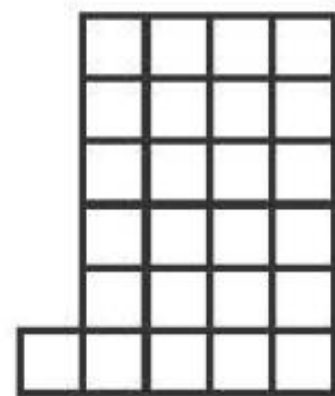
(۱۳)



(۱۷)



(۲۱)



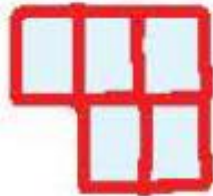
(۲۵)




۵. شکل پنجم را رسم کن و الگوی عددی مربوط به شکل را تشخیص بده و بنویس.



(۱)



(۲)




(۳)

(۵)




ریاضی چهارم دبستان

۵. شکل پنجم را رسم کن و الگوی عددی مربوط به شکل را تشخیص بده و بنویس.



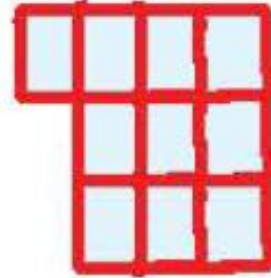
(۱)

$$(1 \times 1) + 1 = 2$$



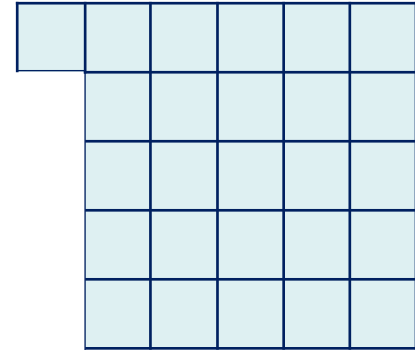
(۲)

$$(2 \times 2) + 1 = 5$$



(۳)

$$(3 \times 3) + 1 = 10$$




(۵)

$$(5 \times 5) + 1 = 26$$

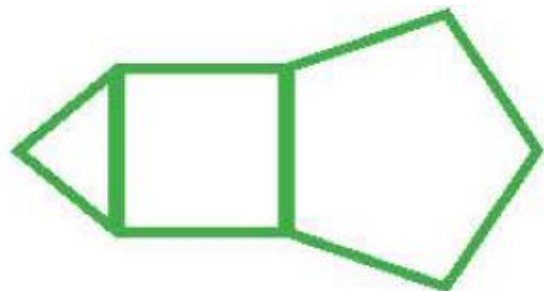
۶. با توجه به الگوی رسم شده شکل بعدی را رسم کن.



(۱)



(۲)



(۳)

(۴)


۷. با توجه به الگوی زیر عدد هفتم چند است؟

۱, ۱, ۲, ۳, ۵,

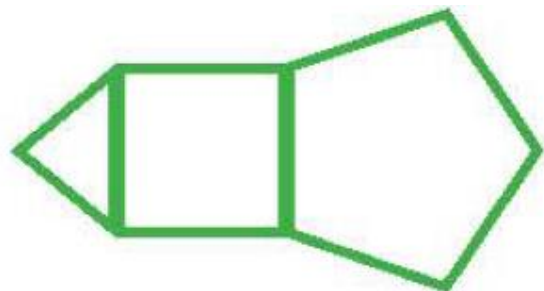
۶. با توجه به الگوی رسم شده شکل بعدی را رسم کن.



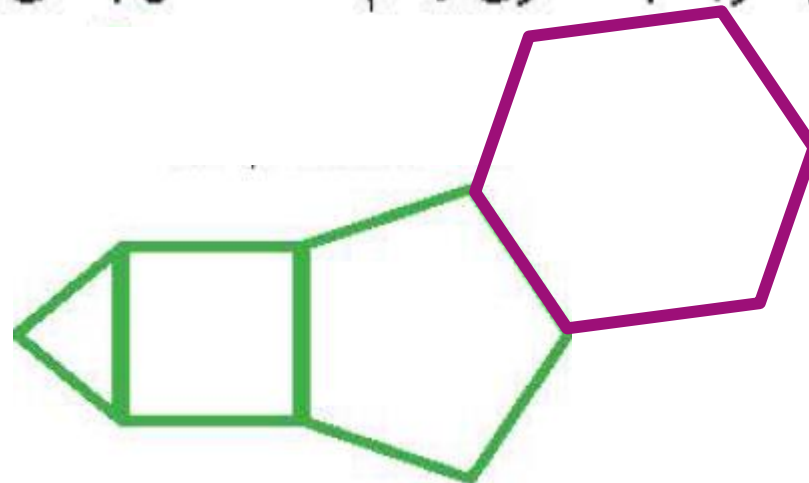
(۱)



(۲)



(۳)



(۴)


۷. با توجه به الگوی زیر عدد هفتم چند است؟

۱, ۱, ۲, ۳, ۵,

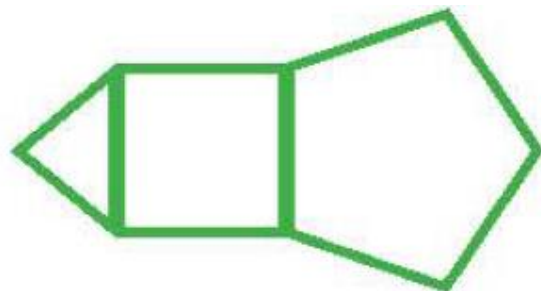
۶. با توجه به الگوی رسم شده شکل بعدی را رسم کن.



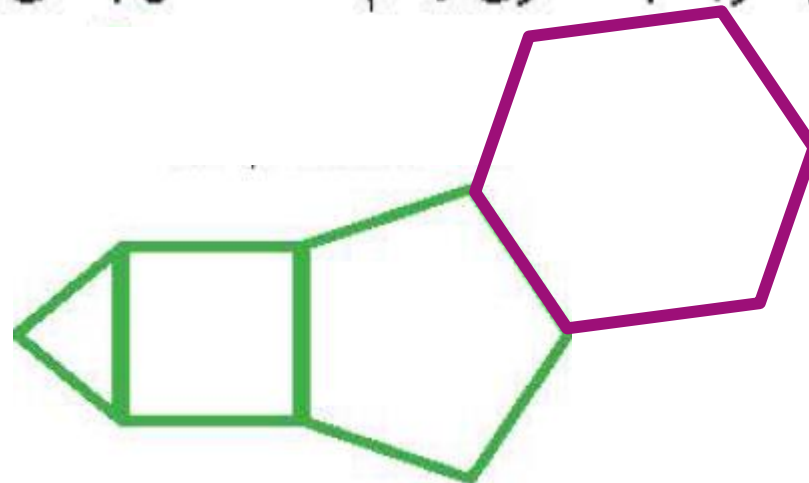
(۱)



(۲)

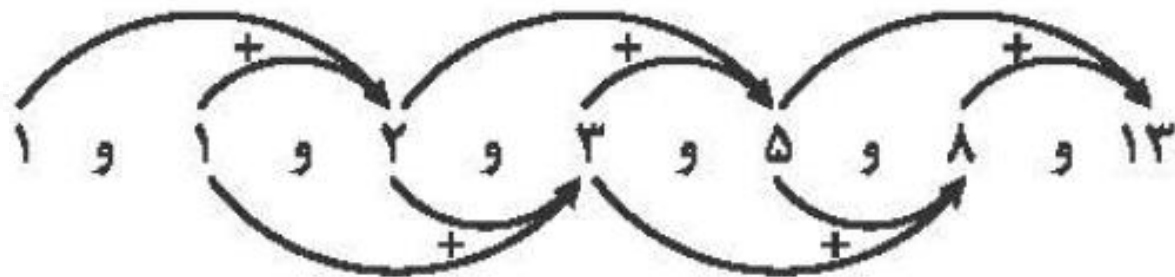


(۳)



(۴)

۷. با توجه به الگوی زیر عدد هفتم چند است؟



۸. اختلاف عدد ششم الگویی (الف) و عدد چهارم الگویی (ب) چند است؟

الف) ۱, ۴, ۹

ب) ۶, ۱۳, ۲۱



۸. اختلاف عدد ششم الگویی (الف) و عدد چهارم الگویی (ب) چند است؟ $۳۶ - ۳۰ = ۶$

الف) ۱، ۴، ۹، ۱۶، ۲۵، ۳۶
+۳ +۵ +۷ +۹ +۱۱

ب) ۶، ۱۳، ۲۱، ۳۰
+۷ +۸ +۹

