











۴. چه عددی ۳۷۵۴ تا از عدد سی هزار و سیصد و بیست و یک بیشتر است؟

.....

۵. بزرگ‌ترین و کوچک‌ترین عدد پنج رقمی که رقم تکراری ندارند را به رقم و حروف بنویس.

.....

۶. در هر مکان به طور تقریبی چند نفر جاسی گیرد؟ تعداد افراد را به مکان وصل کن.

- |        |   |          |   |
|--------|---|----------|---|
| ۱۰     |  | هوایما   |  |
| ۳۰۰    |  | ون       |  |
| ۱۰۰۰۰۰ |  | خیابان   |  |
| ۳۰۰۰   |  | استادیوم |  |

۷. با ارقام ۷ و ۰ و ۴ و ۹ و ۵ و ۶ بزرگ‌ترین و کوچک‌ترین عددش رقمی بدون تکرار را بنویس.

.....

۸. عددش میلیون و شش هزار و شش در کدام گزینه آمده است؟

- ۶۰۰۰۰۰۰۶ (۳)      ۶۰۰۶۰۶۰ (۴)      ۶۰۶۰۰۶۰۶ (۲)      ۶۰۰۶۰۰۶ (۱)

۹. با ارقام ۳، ۵، ۰، ۹، ۷، ۴ بزرگ‌ترین عدد چهار رقمی و با بقیه ارقام کوچک‌ترین عدد سه رقمی را بنویس و اختلاف آن‌ها را محاسبه کن.

.....

۱۰. تمام اعداد سه رقمی (زوج با ارقام ۳ و ۸ و ۵ و ۰ را بنویس. (بدون تکرار ارقام)

.....

.....

.....

