

بچه چهارم

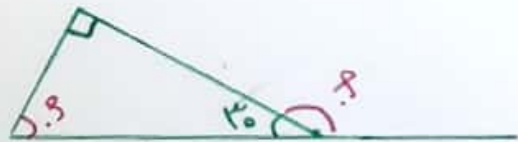

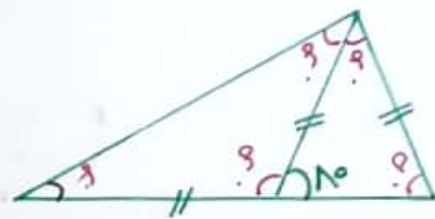
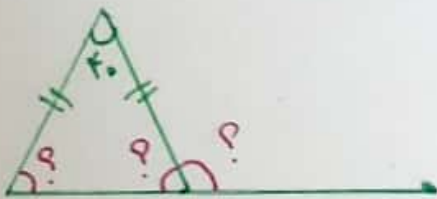
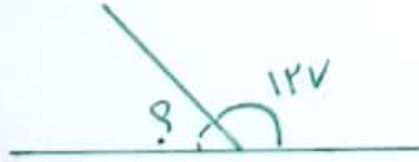
موضوع هندسه

دوران عمودی

تعریف دایره ای مفصل ۴ ریاضی

خانم درخش - خانم محمد الهادی

۱- اندازه زاویه های خواسته شده را بدست آورید



۲- با استفاده از قائم زاویه های مورد نظر را رسم کنید

۴۵ درجه

۱۴۰ درجه

۳- با استفاده از قائم اندازه زاویه های رسم شده را مشخص کنید

