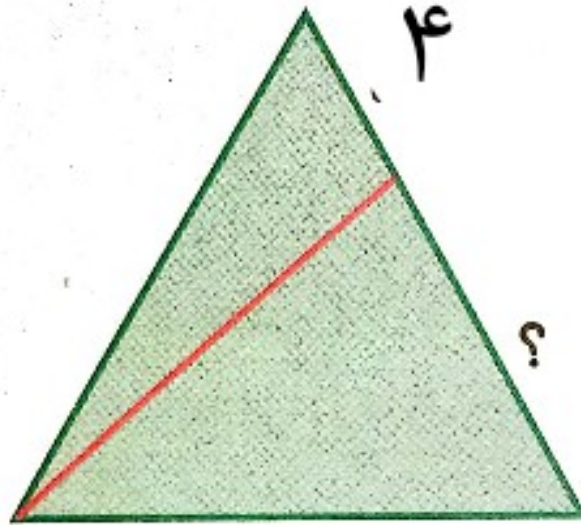
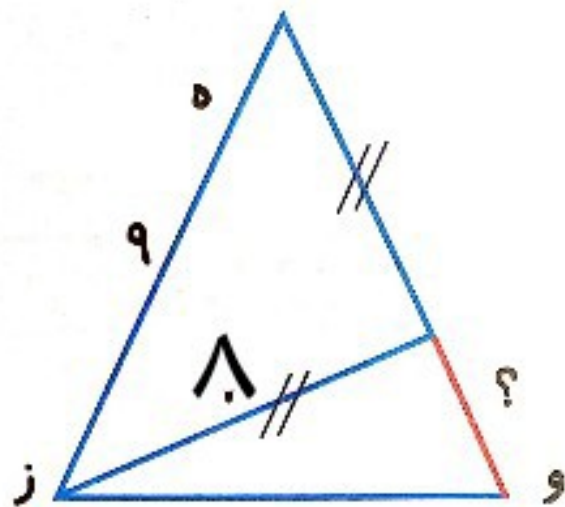


محیط مثلث متساوی الاضلاع زیر ۵۴
سانتی متر است. اندازه طول پاره خط
(?) چند متر است؟



با توجه به اندازه نوشته شده طول پاره خطی را
که با علامت (?) مشخص شده است، پیدا کن

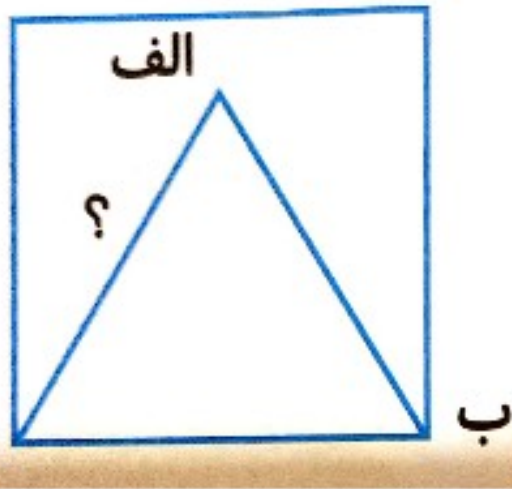


مثلث متساوی الساقین



با توجه به اندازه نوشته شده طول پاره خطی
را که با علامت (?) مشخص شده است، پیدا کن

۱۲



مثلث متساوی الاضلاع

