

نام و نام خانوادگی:

تاریخ:

هدف: ضرب اعداد در ۱۰ و ضرب عددهای
یک رقمی در چند رقمی، تقسیم

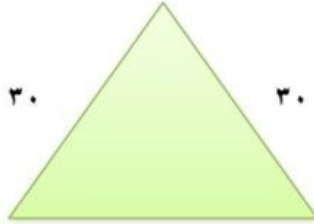
پایه: چهارم

موضوع: ضرب عددها (دوره)

(۱) عزیزم محیط شکل های زیر را با کمک از ضرب بدست بیاور.



۴۰



۳۰

۳۰

۳۰



۱۰

۶۰

(۲) تقسیم را انجام بده و خارج قسمت و باقی مانده را بنویس.

$$\begin{array}{r} 87 \\ | \text{---} 9 \end{array}$$

$$\begin{array}{r} 46 \\ | \text{---} 5 \end{array}$$

$$\begin{array}{r} 71 \\ | \text{---} 8 \end{array}$$

(۳) با رنگ آمیزی دسته بندی کن و برای شکل یک ضرب بنویس.



تاریخ:

هدف: مرور ضرب و تقسیم

پایه چهارم

نام و نام خانوادگی:
موضوع: ضرب و تقسیم

۱) عزیزم حاصل ضرب های نوشته شده در جدول ها را پیدا کن و بنویس .

مثال:

الف)

$$4 \times 8 = 32$$

عمودی:

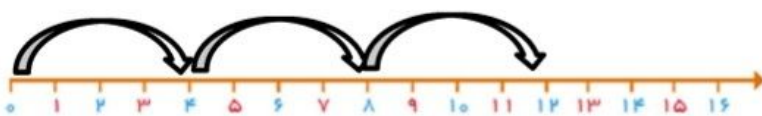
$$4 \times 3 = 12$$

افقی:


الف ۴	۳		ب ۳	۳
۸		ج ۷	۵	
	د ۶	۸		
پ ۹	۴		خ ۵	۴
۳			۵	



۲) ضربی را که محور نشان می دهد بنویس.



۳) شکل را بسته بندی کرده و برای آن دو ضرب و یک تقسیم بنویس.



$$\dots \times \dots =$$

$$\dots \times \dots =$$

$$\dots \div \dots =$$