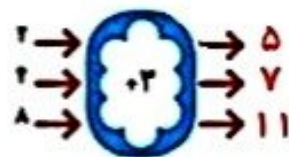
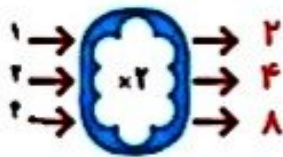
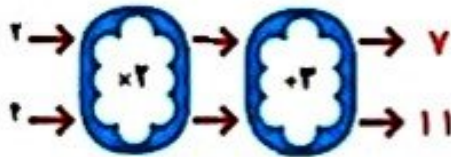


۱- با توجه به کاری که هر ماشین انجام می دهد، عددهای خروجی را پیدا کن.



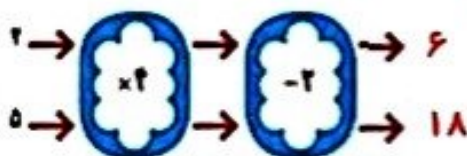
اگر این دو ماشین را پشت سر هم بیندیم و عددهای ۲ و ۲ را وارد کنیم، چه عددهایی خارج می شوند؟



ماشین بالا با عددهای ورودی چه کاری انجام می دهد؟ توضیح دهید.





هر عددی که وارد این ماشین می شود ابتدا ضربدر ۲ می شود و سپس با ۳ جمع می شود

۲- توضیح دهید که ماشین زیر چه کاری انجام می دهد. عددهای خروجی را بنویسید.



هر عددی که وارد این ماشین می شود ابتدا ضربدر ۲ می شود و سپس با ۳ جمع می شود

جاهای خالی را پر کن.



کاردر کلاس