

به نام آنکه ما را زندگی داد وزان پس مژده پایندگی داد

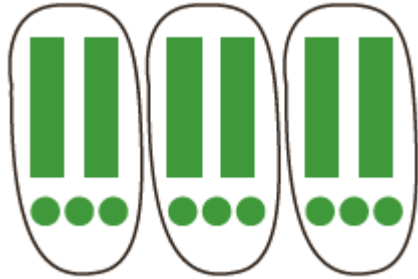
تقسیم بر عددهای دو رقمی



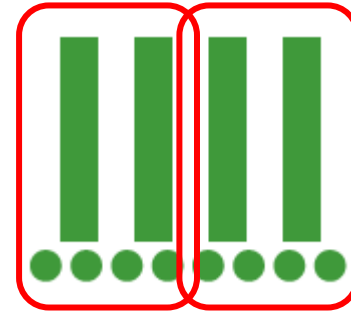


۱- در هر قسمت با توجه به تقسیم داده شده، شکل را دسته‌بندی کنید. سپس تقسیم را کامل کنید.

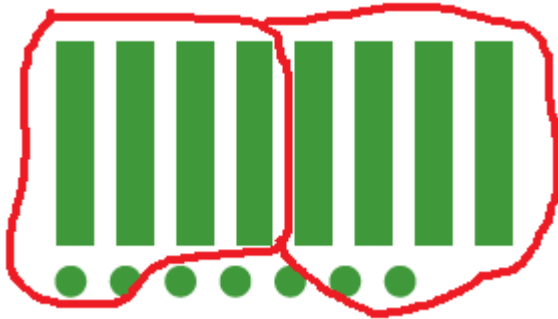
$$\begin{array}{r} 69 \overline{) 23} \\ - 69 \\ \hline \dots \end{array}$$



$$\begin{array}{r} 48 \overline{) 24} \\ - 48 \\ \hline \dots \end{array}$$

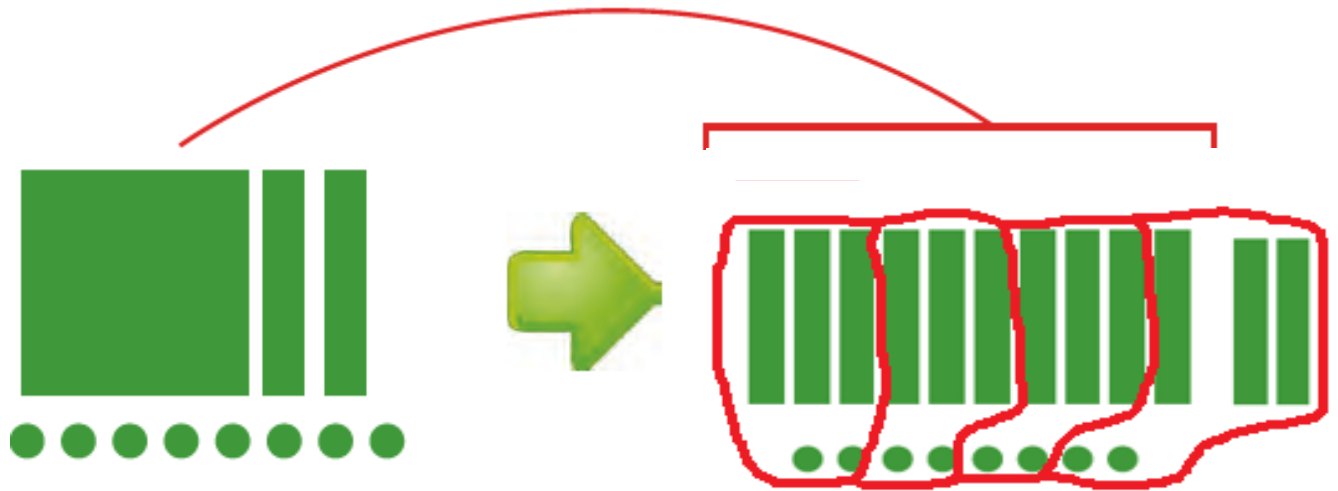


$$\begin{array}{r} 87 \overline{) 42} \\ - 14 \\ \hline \dots \end{array}$$



گروه پایه چهارم (دبستان دخترانه علوی - شعبه امامت)

$$\begin{array}{r} 128 \overline{) 32} \\ - 128 \quad 4 \\ \hline 0 \end{array}$$



۲- در هر تقسیم، ابتدا عددها را به صورت تقریبی بنویسید و خارج قسمت تقریبی را به دست آورید.

$$75 \overline{) 21} \longrightarrow \begin{array}{r} 70 \overline{) 20} \\ - 60 \quad 3 \\ \hline 10 \end{array}$$

$$69 \overline{) 23} \longrightarrow \begin{array}{r} 70 \overline{) 20} \\ - 60 \quad 3 \\ \hline 10 \end{array}$$

گروه پایه چهارم (دبستان دخترانه علوی - شعبه امامت)

$$\begin{array}{r} 96 \overline{) 32} \\ \rightarrow 100 \overline{) 30} \\ - 90 \quad 3 \\ \hline 10 \end{array}$$

$$\begin{array}{r} 84 \overline{) 21} \\ \rightarrow 80 \overline{) 20} \\ - 80 \quad 4 \\ \hline \dots \end{array}$$



تقسیم‌های زیر را انجام دهید. در کدام تقسیم، مقسوم بر مقسوم علیه بخش پذیر است؟

$$\begin{array}{r} 96 \overline{) 42} \\ - 86 \quad 2 \\ \hline 10 \end{array}$$

$$\begin{array}{r} 84 \overline{) 21} \\ - 84 \quad 4 \\ \hline \dots \end{array}$$

مقسوم بر مقسوم علیه
بخش‌پذیر است.

$$\begin{array}{r} 68 \overline{) 13} \\ - 65 \quad 5 \\ \hline 3 \end{array}$$



$$\begin{array}{r} 82 \overline{) 25} \\ - 70 \quad 2 \\ \hline 12 \end{array}$$

$$\begin{array}{r} 79 \overline{) 34} \\ - 68 \quad 2 \\ \hline 11 \end{array}$$

$$\begin{array}{r} 95 \overline{) 23} \\ - 92 \quad 4 \\ \hline .3 \end{array}$$



گروه پایه چهارم (دبستان دخترانه علوی - شعبه امامت)