




دخترم با روش محور - زیرهم نویسی و نمایش روی ساعت به سوالات پاسخ بدهید.


۵۰ دقیقه بعد از ساعت ۳:۳۰




۴۰ دقیقه بعد از ساعت ۳:۴۰



۵۰ دقیقه بعد از ساعت ۲:۱۰



۴۰ دقیقه بعد از ساعت ۳:۴۰



	<p>از ساعت ۲:۳۰ دقیقه تا ۳:۴۰ دقیقه چند ساعت و چند دقیقه است؟ این زمان چند دقیقه است؟</p>	۲
	<p>از ساعت ۴:۲۵ دقیقه تا ۶:۴۰ دقیقه چند ساعت و چند دقیقه است؟ این زمان چند دقیقه است؟</p>	۳
	<p>زمان های زیر چند ثانیه است؟</p> <ul style="list-style-type: none"> • ۲ ساعت و ۲۵ دقیقه و ۴۵ ثانیه • ۱ ساعت و ۱۰ دقیقه و ۵۳ ثانیه 	۴
	<p>۲ ساعت و ۴۰ دقیقه بعد از ساعت ۳ و ۵۰ دقیقه برابر با چه زمانی است؟</p>	۵
	<p>۴ ساعت ۵۵ دقیقه بعد از ساعت ۵ و ۲۰ دقیقه برابر با چه زمانی است؟</p>	۶
	<p>از ساعت ۳:۲۰ دقیقه تا ۵:۱۰ دقیقه چند دقیقه فاصله است؟</p> <p style="text-align: right;">→</p>	۷