

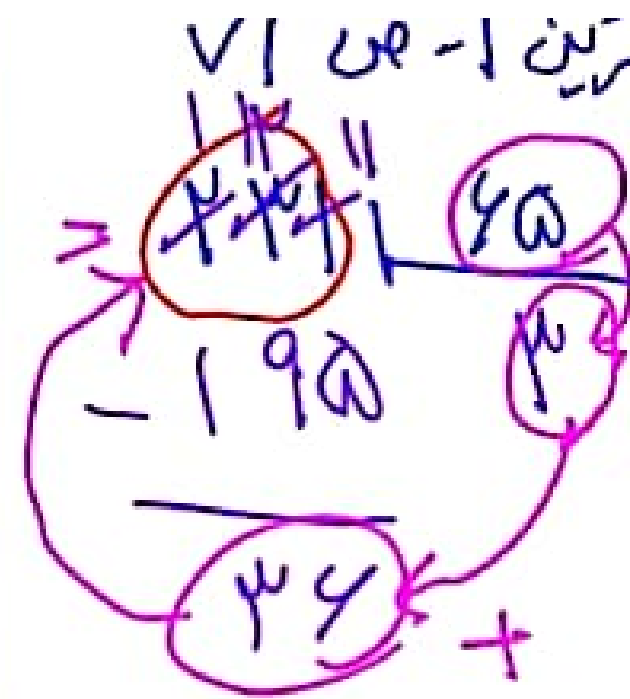
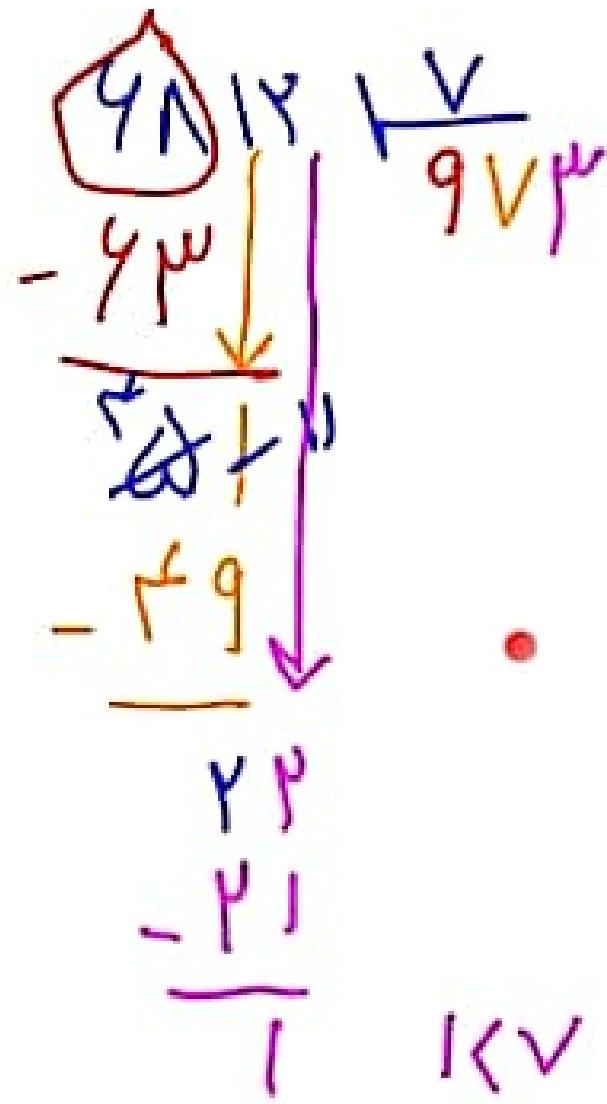
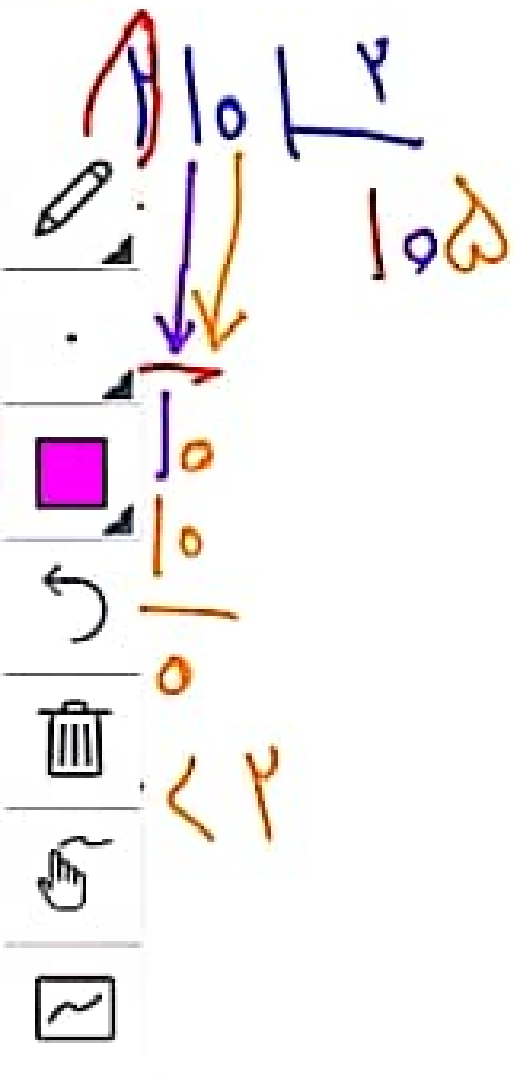
$$\begin{array}{r} \textcircled{\mu\mu} \\ \hline \mu\mu \\ \hline -1\mu\mu \\ \hline \mu\mu \\ \mu < \mu\mu \end{array}$$

$$\begin{array}{r} \textcircled{\omega V_0} \\ \hline -\omega\mu \\ \hline 10 \\ \mu < \mu\mu \end{array}$$

$$\begin{array}{r} \textcircled{\mu\mu} \\ \hline -\omega\mu \\ \hline 10\omega \\ \hline -11 \\ \hline \mu\mu \\ \mu\mu < \mu\mu \end{array}$$

view with 10/15

$$\begin{array}{r} \textcircled{9\mu\mu} \\ \hline -9\mu\mu \\ \hline \mu\mu\mu \\ \hline -\mu\mu\omega \\ \hline \mu \\ \mu < 10 \end{array}$$



$$I_s < I_{s0}$$



تقسیم‌های زیر را انجام دهید.

$$251 \overline{) 22}$$

$$570 \overline{) 28}$$

$$625 \overline{) 27}$$

$$977 \overline{) 65}$$



۱- تقسیم‌های زیر را انجام دهید.

$$310 \overline{) 90}$$

$$802 \overline{) 59}$$

$$239 \overline{) 65}$$

$$7523 \overline{) 21}$$

$$6812 \overline{) 7}$$



۲- یک عدد سه رقمی انتخاب کنید. عددی را که انتخاب کرده‌اید، دوبار پشت هم بنویسید تا

یک عدد ۶ رقمی به دست آید. با ماشین حساب این عدد را به عددهای ۷ و ۱۱ و ۱۳ تقسیم کنید. آیا عدد شما بر

۱۱ و ۱۳ بخش پذیر است؟ این کار را دوبار دیگر و با اعداد سه رقمی دیگری انجام دهید.

تعلیمی می‌تواند به این صورت بر ۷ و ۱۳ و ۱۱ و ۱۳ بخش پذیر باشد.

۳- قیمت یک مداد ۹۰ تومان است. با ۲۰۰ تومان حداکثر چند مداد می‌توان خرید؟

کدام مداد می‌توان خرید

$$\begin{array}{r} 200 \\ - 90 \\ \hline 110 \\ - 90 \\ \hline 20 \end{array}$$

۴- مدیر یک تیم ۹ نفره فوتسال برای بازیکنانش پیراهن ورزشی خرید

و ۲۰۷ هزار تومان پرداخت کرد. قیمت هر پیراهن ورزشی این تیم چند تومان است؟

قیمت هر پیراهن ورزشی ۲۳۰۰۰ تومان است

۵- یک دامدار ۳۰۶ کیلوگرم روغن کوسنجدی را بطور مساوی در ۱۷ ظرف روغن ریخته است. او در هر ظرف چند

کیلوگرم روغن ریخته است؟
در هر ظرف ۱۸ کیلوگرم روغن ریخته است

۶- علی در ماه مبارک رمضان تمام قرآن را خواند. قرآن او ۶۹۶ صفحه داشت و ماه رمضان آن سال ۲۹ روز بود. علی

در هر روز به طور متوسط چند صفحه قرآن خوانده است؟

$$\begin{array}{r} 696 \\ - 29 \\ \hline 24 \end{array}$$

۷- مقدار تقریبی خارج قسمت تقسیم‌های زیر را حدس بزنید.

$$2172 \overline{) 21}$$

$$2800 \overline{) 75}$$

$$2660 \overline{) 63}$$

$$1727 \overline{) 63}$$

۴- مدیر یک تیم ۹ نفره ی فوتسال، برای بازیکنانش پیراهن ورزشی خرید و ۲۰۷ هزار تومان پرداخت کرد. قیمت هر پیراهن ورزشی این تیم چند تومان است؟

۵- یک دامدار ۳۰۶ کیلوگرم روغن گوسفندی را طور مساوی در ۱۷ ظرف ریخته است. او در هر ظرف چند کیلوگرم روغن ریخته است؟

۶- علی در ماه مبارک رمضان تمام قرآن را خواند. قرآن او ۶۹۶ صفحه داشت و ماه رمضان آن سال ۲۹ روز بود. علی در هر روز به طور متوسط چند صفحه قرآن خوانده است؟

$$\begin{array}{r} 696 \\ - 581 \\ \hline 114 \\ - 114 \\ \hline 00 \end{array}$$

در هر روز به طور متوسط ۲۴ صفحه قرآن خوانده است.

۷- مقدار تقریبی خارج قسمت تقسیم‌های زیر را حدس بزنید.

$$\begin{array}{r} 2174 \overline{) 21} \\ 2000 \\ \hline 100 \end{array}$$

$$\begin{array}{r} 2800 \overline{) 75} \\ 2800 \\ \hline 50 \end{array}$$

$$\begin{array}{r} 2660 \overline{) 63} \\ 2000 \\ \hline 18 \end{array}$$

$$\begin{array}{r} 1727 \overline{) 63} \\ 2000 \\ \hline 33 \end{array}$$