

فرشید با نصف پول خود دو دفتر ۳۵۳۰ تومانی و با بقیه‌ی آن ۶ پاک‌کن خرید.

الف) کل پول فرشید را حساب کنید.

ب) قیمت هر پاک‌کن چند تومان است؟

کارخانه‌ی کفش ملی در ۱۳ روز ۹۱۲۰ جفت پوتین تولید کرده است.

الف) این کارخانه روزی چند جفت پوتین تولید کرده است؟

ب) اگر قیمت هر جفت پوتین ۳۵۷۰۰ تومان باشد، درآمد روزانه‌ی این کارخانه، چند تومان است؟

یک نجار، امسال ۲۹۵۲ عدد چوب جهت ساخت نرده بریده است. اگر او برای ساخت نرده‌ی هر خانه از ۲۴

چوب استفاده کند، برای چند خانه می‌تواند نرده بسازد؟

در حیاط مدرسه‌ی شهید مطهری، بچه‌ها در ۱۷ صف ایستاده‌اند. اگر هر صف ۲۳ دانش‌آموز داشته باشد، این مدرسه به طور تقریبی چند دانش‌آموز دارد؟

در جاهای خالی فقط عددهای یک رقمی قرار داده و تمام پاسخ‌های ممکن را بنویسید.

الف)

$$\begin{array}{r} \textcircled{1} \textcircled{} \\ + \textcircled{} \textcircled{8} \\ \hline \textcircled{} \textcircled{5} \end{array}$$

ب)

$$\begin{array}{r} \textcircled{1} \textcircled{} \\ + \textcircled{} \textcircled{8} \\ \hline \textcircled{} \textcircled{5} \end{array}$$

ج)

$$\begin{array}{r} \textcircled{1} \textcircled{} \\ + \textcircled{} \textcircled{8} \\ \hline \textcircled{} \textcircled{5} \end{array}$$

د)

$$\begin{array}{r} \textcircled{1} \textcircled{} \\ + \textcircled{} \textcircled{8} \\ \hline \textcircled{} \textcircled{5} \end{array}$$

مانند نمونه، جاهای خالی را کامل کنید.

$$\begin{array}{r} \div 7 \\ \begin{array}{r} 21 \\ 28 \end{array} = \frac{3}{4} \\ \div 7 \end{array}$$

$$\frac{20}{28} = \frac{5}{\square}$$

$$\frac{3}{8} = \frac{9}{\square}$$

$$\frac{4}{7} = \frac{12}{\square}$$

حاصل جمع و تفریق‌ها را به دست آورید.

$$\frac{2}{6} + \frac{5}{12} =$$

$$\frac{6}{100} - \frac{25}{100} =$$

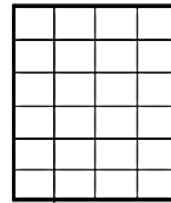
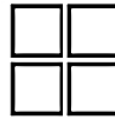
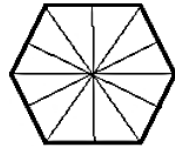
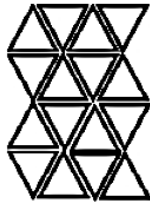
$$\frac{2}{5} + \frac{3}{50} =$$

$$\frac{2}{4} - \frac{12}{28} =$$

$$\frac{9}{18} + \frac{3}{9} =$$

$$\frac{3}{4} - \frac{1}{12} =$$

با نوشتن کسرهای مساوی مناسب، $\frac{2}{3}$ هر یک از شکل‌های زیر را رنگ کنید.



با رسم شکل، برای کسر $\frac{2}{5}$ یک کسر مساوی دیگر بنویسید.

با توجه به عدد داده شده به سوالات پاسخ دهید.

۸۶۲۹۴۷۰۳

الف) بیش‌ترین رقم در چه مرتبه‌ای قرار دارد؟ _____

ب) کم‌ترین رقم در چه مرتبه‌ای قرار دارد؟ _____

ج) در بیش‌ترین مرتبه چه رقمی قرار دارد؟ _____

د) مجموع رقم‌های طبقه‌ی میلیون چیست؟ _____

ه) در کم‌ترین مرتبه چه رقمی قرار دارد؟ _____

و) ارزش مکانی رقم ۵ چیست؟ _____