

- مانند نمونه، به رقم و حروف بنویسید.

دو دهم	_____	چهار و هفت دهم	_____	ده و پنج دهم	_____
۰/۲	۳/۹	_____	۰/۸	_____	۱۲/۶

- مانند نمونه، هر عدد را به دو قسمت کامل و اعشاری تقسیم کنید.

الف) $۲/۷ = ۲ + ۰/۷$

ب) $۵ = \text{_____} + \text{_____}$

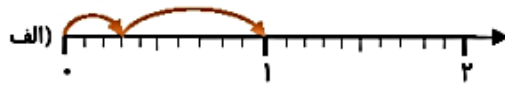
ج) $۰/۹ = \text{_____} + \text{_____}$

د) $۰/۵ = \text{_____} + \text{_____}$

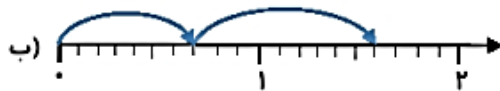
هـ) $۸/۹ = \text{_____} + \text{_____}$

و) $۱۳/۷ = \text{_____} + \text{_____}$


- مانند نمونه‌ها و با توجه به هر محور، جمع و تفریق مربوطه را بنویسید.



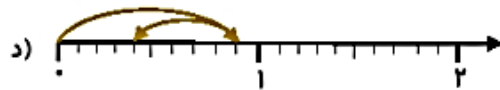
$۰/۳ + ۰/۶ = ۰/۹$



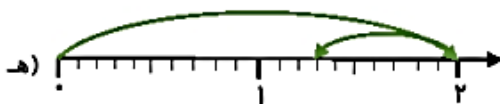
_____ + _____ = _____




_____ + _____ = _____



$۰/۹ - ۰/۵ = ۰/۴$



_____ - _____ = _____



_____ - _____ = _____

- حاصل جمع‌های زیر را به دست آورید.

$۰/۶ + ۰/۷ = \text{_____}$

$۰/۵ + ۰/۶ = \text{_____}$

$۰/۸ + ۰/۷ = \text{_____}$

$۰/۹ + ۰/۸ = \text{_____}$

$۰/۷ + ۰/۴ = \text{_____}$

$۰/۵ + ۰/۹ = \text{_____}$