

نام و نام خانوادگی: ..... تاریخ: ..... نام آموزگار: .....

مطالعات اجتماعی < مرور سال گذشته

هدیه‌های آسمان < مرور سال گذشته

قرآن < مرور سال گذشته

ریاضی < مرور سال گذشته

علوم < مرور سال گذشته

فارسی < مرور سال گذشته

### ریاضی

۱ موارد مرتبط را به هم وصل کنید تا تساوی برقرار گردد.

۴۳۰ سانتی‌متر



۲ کیلوگرم و ۵۰۰ گرم



۱۰ تا ۲۵۰ گرم



۷۵۰۰ متر



۷ کیلومتر و ۵۰۰ متر



۴ متر و ۳۰ سانتی‌متر



۲ اگر سه شنبه دومین روز آبان ماه باشد تا آخر ماه، سه شنبه‌ها چه روزهایی هستند؟

۳۱.۲۴.۱۷.۱۰.۰۳ (۱)

۲۹.۲۲.۱۵.۰۸.۱ (۲)

۳۴.۱۸.۱۰.۰۲ (۳)

۴.۳۰.۲۳.۱۶.۰۹.۲ (۴)

۳ عددی هستم ۴ رقمی، که رقم یکانم ۵ دهگانم ۶، صدگانم ۳ تا بیش‌تر از یکانم و هزارگانم بزرگ‌ترین عدد یک رقمی است.

به عدد:

به حروف:

۴ علامت مناسب (<=>) بگذارید.

$$۷۶۱۲ - ۴۸۱۹ \quad \bigcirc \quad ۲۷۹۳ + ۱۶۰۲$$

$$۶ \times (۸ + ۱) \quad \bigcirc \quad (۱۲ \div ۳) + (۸ \times ۶)$$

$$۴ \times ۵ \times ۷ \quad \bigcirc \quad ۷ \times ۲ \times ۱۰$$

یک مغازه‌دار، هر کیلوگرم شیر را ۱۰۰۰ تومان می‌خرد و ۱۲۰۰ تومان می‌فروشد.

الف) با فروش یک کیلوگرم شیر، چقدر سود می‌کند؟

ب) اگر ۳ کیلوگرم شیر بفروشد، چقدر سود می‌کند؟

پ) چند کیلوگرم شیر بفروشد، تا با سود آن ۲ کیلوگرم شیر بخرد؟

### علوم

۱ کدام یک از گیاهان زیر ساقه‌های چوبی و کلفت دارند؟

۴) ذرت

۳) گندم

۲) برنج

۱) گل سرخ

۲ در جای خالی، برچسب مناسب قرار دهید.

الف) در آب زندگی می‌کند، آبشش، دم و باله دارد و از گیاهان آبزی تغذیه می‌کند.

ب) در خشکی و در کنار آب زندگی می‌کند، شش، دست و پا دارد و از راه پوست نیز نفس می‌کشد.

۳ برای هر کدام از اثرات نیرو در جدول زیر مثال بزنید.

تغییر جهت حرکت جسم	تغییر شکل جسم	توقف جسم	به حرکت درآوردن جسم

۴ چرخه‌ی آب چیست؟ آن را تعریف کنید.

### فارسی

۱ هر کلمه را به جزء مناسب خود وصل کنید.

● ستان

● ناک

● کش

● انه

● خط

● دوست

● درد

● کوه



۲ جملات را با کلمات زیر کامل کنید.

- «کشیده‌ایم، سال گذشته، اکسیژن، صورت،  
حرفه‌ای، اول رشته‌ی ورزشی خود را انتخاب می‌کنیم.»  
الف) برای ورزش کردن به .....  
ب) من و دوستم، نقاشی‌های زیبایی .....  
پ) مورد نیاز ما، از جنگل‌ها تأمین می‌شود.  
ت) ما ..... به زیارت رفته بودیم.

۳ این جمله توضیح کدام گزینه است؟

«داستان کوتاهی که از روزگار گذشته برجای مانده است و با پند و نصیحت همراه است.»

- ۱) مثل      ۲) حکایت      ۳) نمایش      ۴) شعر

۴ با حروف به هم ریخته‌ی زیر، یک کلمه بسازید و برای آن یک هم‌خانواده بنویسید.

	← ط-خ-ا-ر-ت-ا
	← ظ-ع-م-ت
	← س-ح-ا-س-ا

۵ با کلمه‌های داخل کمانک، جمله را تفسیر دهید.

الف) مردم ایران هرگز ایثارگری شهدا را فراموش نمی‌کنند. (فاطمه)

ب) پدر و مادرم امروز به مسافرت می‌روند. (دیروز)

پ) امروز علی برای نماز خواندن به مسجد رفت. (فردا)

### مطالعات اجتماعی

۱) درستی  و نادرستی  هر عبارت را مشخص کنید.

- الف) رشد کردن تغییراتی در بدن موجود زنده به وجود نمی‌آورد.
- ب) تعداد اعضای خانواده با تولد فرزند، زیاد می‌شود.
- پ) اگر توانایی همه‌ی انسان‌ها کاملاً شبیه بود، نیازهای ما برطرف نمی‌شد.

۲ پاسخ صحیح هر عبارت را مشخص کنید.

الف) کدام یک از موارد زیر، شباهت بین انسان‌ها را نشان می‌دهد؟

۱) همه‌ی انسان‌ها به غذا، آب و هوای سالم نیاز دارند.

۲) همه‌ی انسان‌ها به محبت کردن و محبت دیدن نیاز دارند.

۳) همه‌ی انسان‌ها زیبایی را دوست دارند.

۴) همه‌ی موارد صحیح است.

ب) کدام یک از صاحبان شغل‌های زیر، کالایی را تولید می‌کنند؟

۴) نانوا

۳) پلیس

۲) معلم

۱) آتش‌نشان

### هدیه‌های آسمان - قرآن

۱) بهترین راه تشکر از خدا چیست؟

۱) استفاده‌ی صحیح از نعمت‌ها

۲) نماز خواندن

۴) سپاس‌گزاری با زبان

۳) دعا کردن

۲) موارد درست را به هم وصل کنید.

حرام

واجب

۱۷

۵

کارهایی که حتماً باید انجام دهیم.






کارهایی که نباید انجام دهیم.







ما مسلمانان برای تشکر از خداوند در شبانه‌روز چند نوبت نماز می‌خوانیم؟

ما مسلمانان برای تشکر از خدا در شبانه‌روز چند رکعت نماز می‌خوانیم؟

۳) آیه‌ی زیر به خواندن چه چیزی اشاره دارد؟

«وَعَلَيْكَ بِتِلَاوَةِ الْقُرْآنِ عَلَىٰ كُلِّ حَالٍ»

	کاربرد پسوند صحیح
	توضیح عبارات ادبی
	تفسیرات در خانواده و دسته‌بندی مشاغل
	تشکر از خدا
	معنای عبارات قرآنی

	تبدیل واحدهای اندازه‌گیری
	الگوی عددی
	عددنویسی
	حل مسئله
	انواع ساقه‌ها
	چرخه‌ی زندگی ماهی و قورباغه

شاخص‌ها

-  خیلی خوب
-  خوب
-  قابل قبول
-  نیاز به تلاش بیشتر