


Let's work together.



۲ تا ۱۰۰ تا عدد
نوشته کنید



شماره اول = ۱
(نقطه ۲) و اول = ۱۰۰



شماره اول = ۱
(نقطه ۲) و اول = ۱۰۰

Alrigh

نوشته کنید
حرف
آب
عنه

قرصان
دندان
خوب
بازی

من
برندای نوشتن
مخبرم

زبان
ویرا
فراموش
نکنید

هر صبح
شیرینی
بکنید

روای
خوب
بکنید

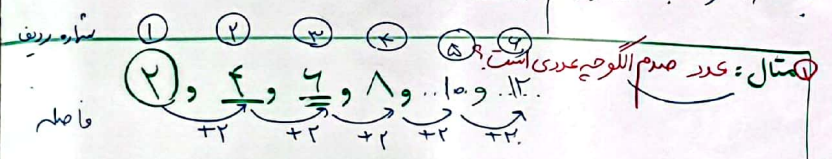
روش نوشتن رابطه الگو

در الگو دو چیز پنهان وجود دارد که پیدا کردن آن برای نوشتن رابطه الگو بسیار مهم است.

* آن دو چیز پنهان عبارتند از:

- ① شماره ی ردیف یا شماره ی شکل ← مثل شماره ی ردیف شما در دفتر کلاسی
 - ② فاصله ← تفاوت عددهای الگو
- رابطه ی الگو از این دو قسمت ساخته می شود.

نکته ی مهم: درستی رابطه ای که نوشته ام امتحان کنم.



فاصله \times شماره ردیف = رابطه

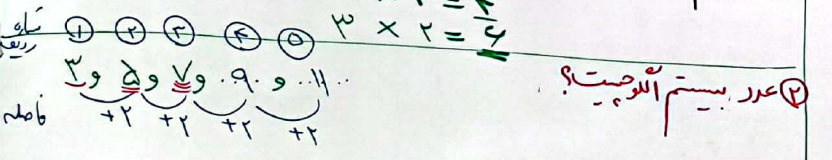
$2 \times$ شماره ردیف = رابطه

$$1 \times 2 = 2$$

$$2 \times 2 = 4$$

$$3 \times 2 = 6$$

عدد صدم $100 \times 2 = 200$



رابطه $= 2 \times$ شماره ردیف $+ 1$

$$1 \times 2 = 2 + 1 = 3$$

$$2 \times 2 = 4 + 1 = 5$$

$$3 \times 2 = 6 + 1 = 7$$

عدد بیستم $20 \times 2 + 1 = 41$