


Let's work together.



۲ تا ۱۰۰ تا عدد  
نوشته کنید



شماره اول = ۱  
(نموده ۲) و اولی ۱۰۰ تا



شماره اول = ۱  
(نموده ۲) و اولی ۱۰۰ تا

Alrigh

نوشته کنید  
حرف  
آب  
عنه

قرصان  
دندان  
خوب  
بازی

من  
برنده  
خوب  
مهم

زبان  
و  
فروتنی  
کتاب

هر  
سخت  
باید

بازی  
خوب  
بازی

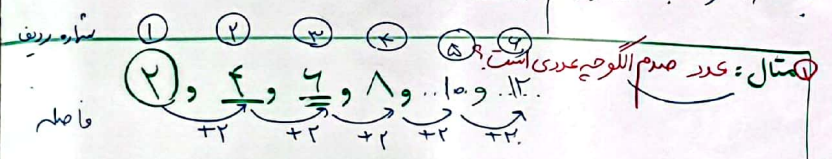
# روش نوشتن رابطه الگو

در الگو دو چیز پنهان وجود دارد که پیدا کردن آن برای نوشتن رابطه الگو بسیار مهم است.

\* آن دو چیز پنهان عبارتند از:

- ① شماره ی ردیف یا شماره ی شکل ← مثل شماره ی ردیف شما در دفتر کلاسی
  - ② فاصله ← تفاوت عددهای الگو
- رابطه ی الگو از این دو قسمت ساخته می شود.

نکته ی مهم: درستی رابطه ای که نوشته ام امتحان کنم.



فاصله × شماره ردیف = رابطه

۲ × شماره ردیف = رابطه

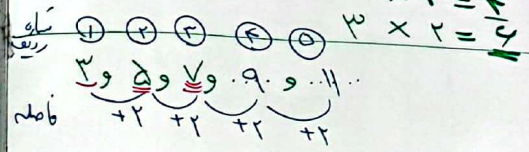
۱ × ۲ = ۲

۲ × ۲ = ۴

۳ × ۲ = ۶

۱۰۰ × ۲ = ۲۰۰

عدد صدم



۲ × شماره ردیف + ۱ = رابطه

۱ × ۲ = ۲ + ۱ = ۳

۲ × ۲ = ۴ + ۱ = ۵

۳ × ۲ = ۶ + ۱ = ۷

۲۰ × ۲ + ۱ = ۴۱

عدد بیستم

عدد بیستم الگو چیست؟