

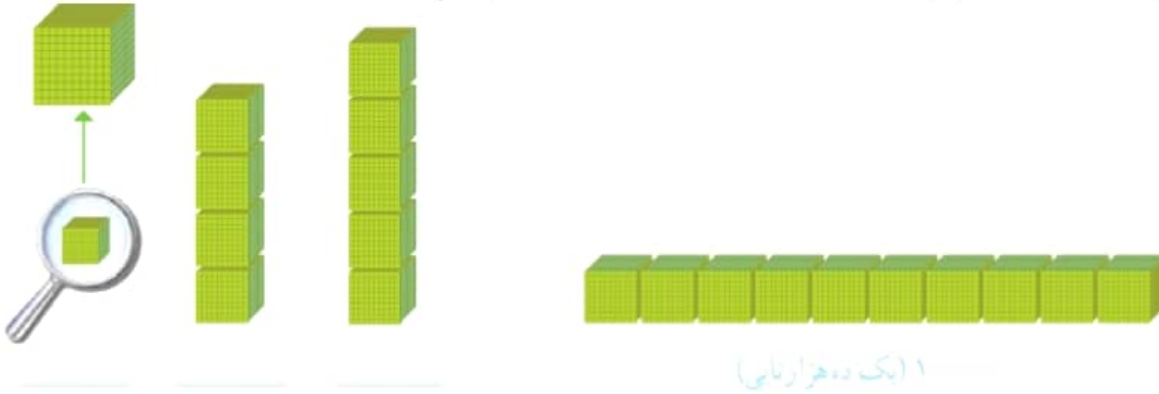
عدد نویسی



۱- الگوی شمردن ۱۰۰۰ تا ۱۰۰۰ تا را ادامه دهید.

_____ و _____ و _____ و _____ و _____ و _____ و _____ و _____ و _____ و _____

۲- هر مکعب نشان دهنده‌ی عدد ۱۰۰۰ است. عددی را که هر شکل نشان می‌دهد، بنویسید.

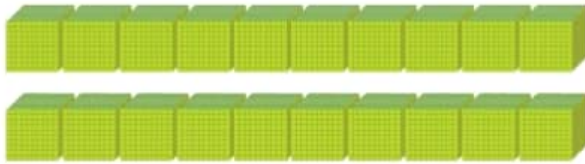


۱ (یک ده هزار تایی)

اگر ۱۰ مکعب ۱۰۰۰ تایی را کنار هم قرار دهیم، چه عددی درست می‌شود؟

با حروف: _____
با رقم: ۱۰۰۰۰

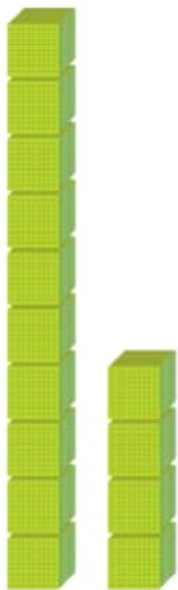
۳- شکل مقابل چه عددی را نشان می‌دهد؟



با حروف: _____

با رقم: _____

۴- هر یک از شکل‌های زیر چه عددی را نشان می‌دهد؟



یکی ده تایی صدتایی هزارتایی ده هزارتایی

ریال _____



۱- عددهایی را که در جدول مشخص شده است، بنویسید.

یکی	ده‌تایی	صدتایی	هزارتایی	ده‌هزارتایی
۰	۰	۰	۷	۴

یکی	ده‌تایی	صدتایی	هزارتایی	ده‌هزارتایی
۰	۰	۰	۴	۷

بین این دو عدد چه تفاوتی وجود دارد؟

۲- ده هزار، چندتا هزارتاست؟

سی و پنج هزار، چندتا هزارتاست؟

۳- با توجه به سؤال‌های بالا، عددی را که در جدول مشخص شده است با عدد و حروف بنویسید.

هزار	
دهگان	یکان
۴	۷

با رقم:

با حروف:

۴- بین این دو عدد چه تفاوتی وجود دارد؟

هزار	
دهگان	یکان
۵	۳

هزار	
دهگان	یکان
۳	۵

۵- مانند نمونه، گسترده‌ی هر عدد را بنویسید.

$$53678 = 50,000 + 3,000 + 600 + 70 + 8$$

$$70012 =$$

$$99900 =$$



۱- الگوی عددی را بخوانید و ادامه دهید.

۱۰,۰۰۰ و ۲۰,۰۰۰ و ۳۰,۰۰۰ و _____ و _____ و ۷۰,۰۰۰

۲- عددی را که هر شکل نشان می‌دهد، بخوانید و بنویسید.





۱- مانند نمونه، جاهای خالی را پر کنید.

دوتا ده هزارتا برابر است با : بیست هزار یعنی عدد : ۲۰۰۰۰

دویست تا هزارتا برابر است با : هزار یعنی عدد :

سیصد و بیست تا هزارتا برابر است با : هزار یعنی عدد :

چهارصد و هفتاد و دوتا هزارتا برابر است با : هزار یعنی عدد :

۲- هر جدول چه عددی را نشان می‌دهد؟

هزار		
صدگان	دهگان	یکان
۷	۲	۱

هزار		
صدگان	دهگان	یکان
۴	۸	۹

صدگان	دهگان	یکان
۴	۵	۳

با توجه به جدول‌های بالا، عددی را که هر کدام از جدول‌ها نشان می‌دهد، بنویسید و جاهای خالی را مانند نمونه پر کنید.

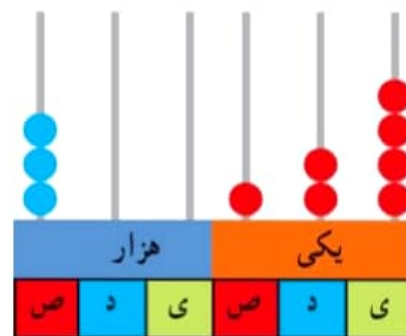
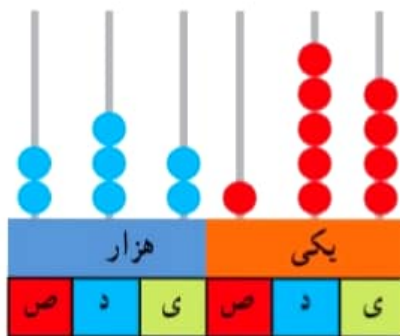
هزار			هزار		
صدگان	دهگان	یکان	صدگان	دهگان	یکان
۷	۲	۱	۴	۵	۳
↓			↓		
۷۰۰,۰۰۰			۴۰۰		

هزار			هزار		
صدگان	دهگان	یکان	صدگان	دهگان	یکان
۴	۸	۹	۴	۵	۳
↓			↓		



۱- عدد دویست و هفتاد و پنج هزار و هفتصد و بیست و یک را در جدول ارزش مکانی نشان دهید.

۲- عددی را که هر شکل نشان می‌دهد بنویسید.



۳- پول‌های زیر روی هم چند ریال می‌شوند؟



۴- عددی را که هر عبارت نشان می‌دهد در جدول ارزش مکانی قرار دهید.

هزار					
صدگان	دهگان	یکان	صدگان	دهگان	یکان

$$= 300000 + 50000 + 4000 + 700 + 80 + 9$$

$$= 3 تا 10000 تا 5 تا 1000 تا 6 تا یکی$$

$$= 4 تا صد هزار تایی + 7 تا ده هزار تایی + 9 تا ده تایی$$

۵- عدد ۱۲۴۰۰۰ را در نظر بگیرید. این عدد چند رقمی است؟

رقم یکان هزار آن چند است؟ رقم صدگان آن چند است؟

۶- عددهای مورد نظر را بنویسید.

کوچک‌ترین عدد شش رقمی:

بزرگ‌ترین عدد پنج رقمی:

کوچک‌ترین عدد پنج رقمی بدون تکرار رقم‌ها:

بزرگ‌ترین عدد چهار رقمی بدون تکرار رقم‌ها:

۷- جمعیت یک شهر در سرشماری سال ۱۳۹۰، ۴۷۶۰۰۰ نفر بوده است. این عدد را با حروف بنویسید.

۸- به نظر شما، عدد ۴۷۰۰۰ چه چیزهایی را می‌تواند نشان دهد؟ پاسخ خود را با پاسخ‌های دوستانان مقایسه کنید.

۹- تعداد افراد را به مکان‌های مناسب وصل کنید. یعنی حدس بزنید که در هر مکان به طور تقریبی چند نفر جا می‌گیرند.

۱۰ نفر	۱۰۰ نفر	۱۰۰۰ نفر	۱۰۰۰۰ نفر	۱۰۰۰۰۰ نفر
خانه	خیابان	استادیوم	اتاق	کوچه
	۵ نفر	۵۰ نفر	۵۰۰ نفر	
	اتوبوس	قطار	ماشین سواری	