


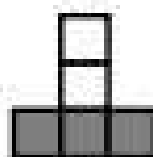
هندسی زیر به سولات داده شده پاسخ دهید.



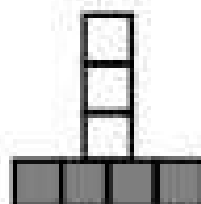
شکل (۱)



شکل (۲)



شکل (۳)



شکل (۴)

شکل (۵)

شماره شکل	۱	۲	۳	۴
تعداد مربع های سفید				
تعداد مربع های سیاه				
تعداد همه ی مربع ها				

الگوی هندسی را رسم کنید.

جدول را کامل کنید.

معلومات جدول تعداد همه ی

چهارم را چگونه به دست می آوری؟

حل کنید و به سولات پاسخ دهید.

$$8 \text{ } \bullet \bullet \bullet \bullet \bullet \bullet \bullet \bullet + 9 \text{ } \bullet \bullet \bullet \bullet \bullet + 7 \text{ } \bullet \bullet \bullet + 5 \text{ } \bullet \bullet + 3 \text{ } \bullet + 2 =$$

حروف بنویسید:

ترین رقم این عدد چیست؟

رقمی است؟

ترین ارزش مکانی را دارد؟