



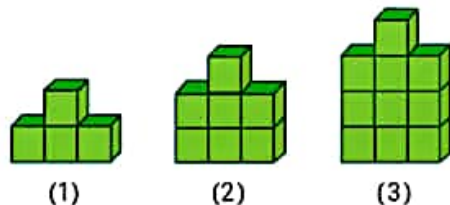
موضوع:

تاریخ:

نام و نام خانوادگی:

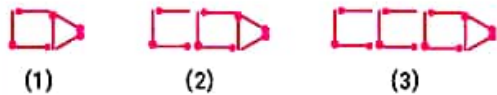
هدف:

۱) با توجه به الگوی زیر، شکل (هفدهم) چند مکعب خواهد داشت؟



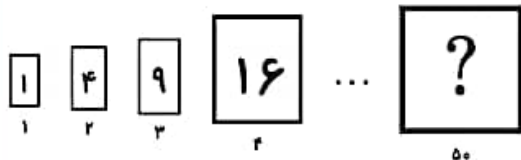
- ۱) ۵۲ مکعب ۲) ۵۵ مکعب ۳) ۴۹ مکعب ۴) ۵۶ مکعب

۲) شکل‌های زیر با استفاده از چوب کبریت ساخته شده است. اگر ساختن شکل‌ها ادامه یابد، برای ساختن شکل پانزدهم به چند چوب کبریت نیاز داریم؟



- ۱) ۲۵ ۲) ۴۶ ۳) ۴۷ ۴) ۴۸

۳) با توجه به الگو، مساحت مربع شماره‌ی ۵۰ چند است؟



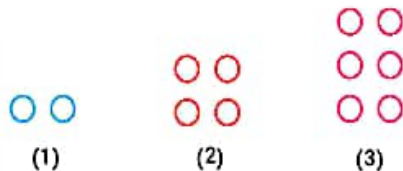
- ۱) ۲۰۰۰ ۲) ۲۵۰۰ ۳) ۲۵۵۰ ۴) ۲۵۵۳

۴) عضو پنجاهم دنباله‌ی مقابل چیست؟

۱, ۴, ۷, ۱۰, ۱۳

- ۱) ۱۴۸ ۲) ۱۴۶ ۳) ۱۴۴ ۴) ۱۴۲

۵) تعداد دایره‌های شکل ۵۱ چند تا است؟



- ۱) ۱۰۰ ۲) ۵۳ ۳) ۱۵۳ ۴) ۱۰۲

بازخورد:

Blank rounded rectangular box for feedback.





موضوع:

تاریخ:

نام و نام خانوادگی:

هدف:

۶ در الگوی زیر، شکل چهارم از چند مثلث تشکیل شده است؟



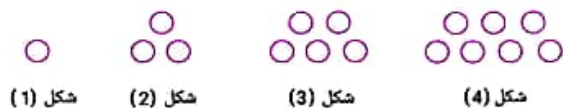
۸۰ (۴)

۹۱ (۳)

۷۱ (۲)

۸۱ (۱)

۷ با توجه به الگوی داده شده، شکل بعدی چند دایره دارد؟



شکل (1)

شکل (2)

شکل (3)

شکل (4)

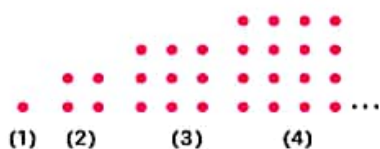
۱۱ (۴)

۱۰ (۳)

۹ (۲)

۸ (۱)

۸ با توجه به الگوی زیر، تعداد نقاط شکل ۳۱ ام برابر است با:



(1)

(2)

(3)

(4)

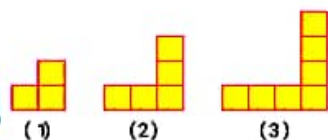
۳۳×۳۳ (۴)

۳۱×۳۱ (۳)

۳۰×۳۰ (۲)

۲۹×۲۹ (۱)

۹ در الگوی مقابل شکل هفتم چند مربع دارد؟



(1)

(2)

(3)

۲۷۹ (۴)

۱۴۱ (۳)

۴۹۷۰ (۲)

۲۱۰ (۱)

۱۰ در الگوی مقابل پنجمین عدد چیست؟

۶, ۱۱, ۱۶, ...

۲۰ (۴)

۲۲ (۳)

۲۸ (۲)

۲۶ (۱)

بازخورد:

Empty rounded rectangular box for feedback.

