

موضوع: ریاضی

تاریخ

نام و نام خانوادگی

هدف:

۱۰۴۲ •

۱- وصل کنید. (دو عدد اضافی است).

۱۰۲۴ •

الف) بزرگ‌ترین عدد ۴ رقمی غیر تکراری

۹۸۷۶ •

ب) کوچک‌ترین عدد ۴ رقمی زوج غیر تکراری

۹۹۸۷ •

پ) اختلاف بزرگ‌ترین عدد ۳ رقمی و کوچک‌ترین عدد ۵ رقمی

۹۰۰۱ •

۲- جملات درست و نادرست را مشخص کنید.

الف) ثلث ۱۲ برابر ۴ است.

ب) کوچک‌ترین رقم در عدد ۲۰۳۸۶۱۵۷ در مرتبه‌ی یکان میلیون قرار دارد.

پ) هشت تا صدهزارتایی و پنج تا یکی می‌شود ۸۰۰۵.

۳) الف) با داشتن ورودی یکسان، کدام ماشین، خروجی بزرگ‌تری دارد؟

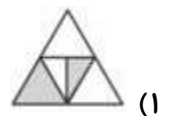
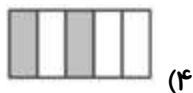
(۲)  $\xrightarrow{-1} \xrightarrow{\div 3}$

(۱)  $\xrightarrow{-1} \xrightarrow{\times 2}$

(۴)  $\xrightarrow{\div 4} \xrightarrow{\times 8}$

(۳)  $\xrightarrow{+2} \xrightarrow{\times 2}$

ب) کدام شکل کسر  $\frac{2}{5}$  را نشان می‌دهد؟



بازخورد:

\_\_\_\_\_

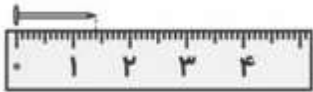
\_\_\_\_\_

\_\_\_\_\_



۴) جاهای خالی را کامل کنید.

الف) کسر با صورت و مخرج برابر مساوی ..... است.



ب) طول میخ برابر ..... سانتی متر و ..... سانتی متر است.

پ) یک کیلو و ۷۵۰ گرم به صورت عدد مخلوط برابر ..... است.

ت) کسر با صورت صفر برابر ..... است.

۵) عدد مخلوطی که هر شکل نشان می دهد را بنویسید.

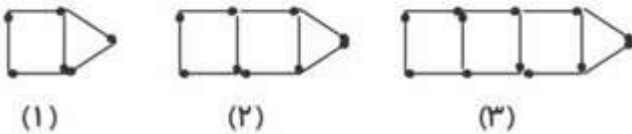


(ب)



(الف)

۶) برای شکل بیستم الگوی زیر، چند چوب کبریت نیاز داریم؟




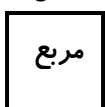
(۱)

(۲)

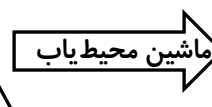
(۳)

۷) خروجی ماشین های زیر را بنویسید.

۳ سانتی متر



.....



.....

مثلث متساوی الاضلاع

بازخورد:

.....

.....

.....

.....

