

۱۵) نیمی از روغن ظرفی که یک لیتر روغن دارد را خالی می‌کنیم بار دیگر $(\frac{2}{5})$ باقی مانده روغن را خالی می‌کنیم، چه مقدار

$$\frac{1 \times 5}{2 \times 5} + \frac{2 \times 2}{5 \times 2} = \frac{5 + 4}{10} = \frac{9}{10}$$

$$\frac{10}{10} - \frac{9}{10} = \frac{1}{10} = 0,1$$

روغن در ظرف باقی می‌ماند؟ پاسخ را به اعشار تبدیل کن.

۱۶) حاصل کدام گزینه با بقیه متفاوت است؟

$$1/3 + 0/7 \quad (4)$$

$$3/1 - 1/1 \quad (3)$$

$$2/1 - 0/2 \quad (2)$$

$$3/8 - 1/8 \quad (1)$$

۲.

۲.

۱,۸


فعالیت کلاسی



جمع با تفریق اعشاری مربوط به هر محور را بنویس.


۱

الف:



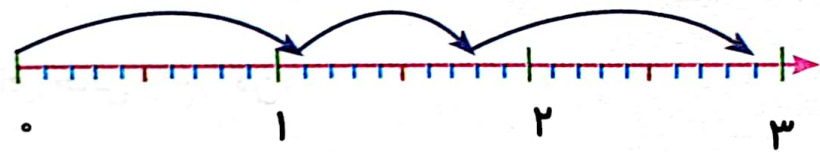
$$2.4 - 1.1 = 1.3$$

ب:



$$0.9 + 1.3 = 2.2$$

پ:




$$1.1 + 0.7 + 1.1 = 2.9$$

حاصل جمع و تفریق زیر را به کمک محور پیدا کن.

۲

الف: $2/6 + 1/7 = 4/3$



ب: $4/2 - 2/6 = 1/6$

