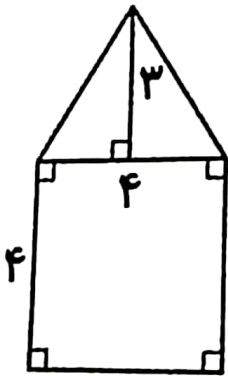
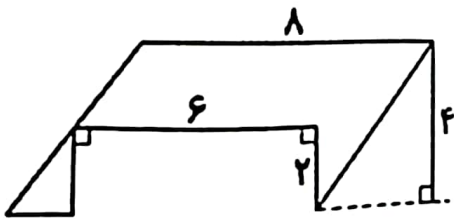
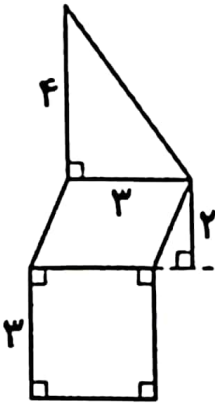
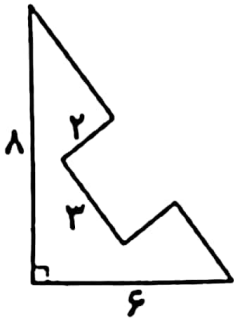


۴۳- مساحت شکل های زیر را با دقت به دست آورید. (واحدها بر حسب سانتی متر است).



۴۸- اگر مساحت مربعی ۴۹ سانتی متر مربع باشد، محیط آن را بیابید.

۴۹- ربع طول ضلع مربعی ۱۲ متر است. مساحت این مربع چند متر مربع است؟

۵۰- در هر شکل مساحت قسمت رنگی را بیابید.

