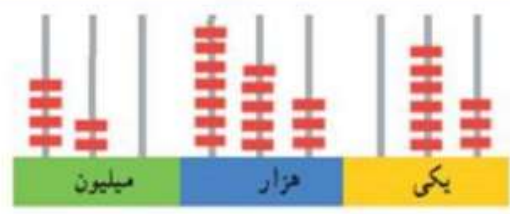




نام و نام خانوادگی: _____
 تاریخ: _____
 موضوع: _____
 هدف: _____



۱- عددی را که شکل نشان می‌دهد، بخوانید و با حروف و رقم بنویسید.
 با رقم:
 با حروف:
 رقم ۷ در چه مرتبه‌ای قرار دارد؟

۲- در جای خالی عدد مناسب را بنویسید.

الف ۴۵۶۸۲ یعنی یعنی دو هزار تا هزار تا صد تا ده تا یکی
 ۵ صد هزار تایی + ۴ هزار تایی + ۷ صد تایی + ۵ ده تایی + ۳ تا یکی می‌شود:

۳- به سوالات زیر جواب دهید.

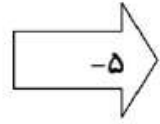
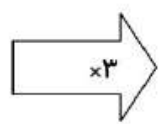
الف بزرگترین عدد شش رقمی فرد بدون تکرار:
 کوچکترین عدد پنج رقمی زوج بدون تکرار:

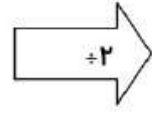
۴- عبارت‌های زیر را بصورت گسترده و یا جمع بنویسید. $۸۰۰۰۰۰ + ۶۰۰۰ + ۷ = \dots\dots\dots$

$۲۳۱۰۰۶ = \dots\dots\dots$

۶- جاهای خالی را کامل کنید؟

۳
۵
۷
۱۱





۲ _ ۸ _ ۲۴ _ _ _

۷- الگوی عددی زیر را ادامه دهید.

۳۰ _ ۲۴ _ ۱۸ _ _

۱ _ ۳ _ ۸ _ ۱۵ _ _ _



نام و نام خانوادگی: _____ تاریخ: _____ موضوع: _____ هدف: _____

۸- جمع و تفریق های زیر را بصورت ذهنی حل کنید.

$۳۶۰۰ + ۴۳۰۰ = \dots\dots\dots$ $۷۷۰۰۰ + ۷۰۰۰۰ = \dots\dots\dots$

$۲۰۷۰۰۰ + ۷۵۰۰۰۰ = \dots\dots\dots$ $۷۰۰ - ۶۰۰ = \dots\dots\dots$

۹- ضرب های زیر را حل کنید.

$۷۰۰ + ۸۰۰ = \dots\dots\dots$ $۹۰۰۰ \times ۸۰ = \dots\dots\dots$

$۵۰۰ \times ۵۰۰ = \dots\dots\dots$ $۷۰۰ \times ۶۰۰ = \dots\dots\dots$

۱۰- جاهی خالی را پر کنید.

طول ضلع مربع	۳		۴		۹
محیط مربع		۲۴		۲۸	

طول ضلع متساوی الاضلاع	۳		۴		۷
محیط متساوی الاضلاع		۲۴		۲۸	

۹- با عددهای ۳ ، ۰ ، ۰ ، ۰ ، ۷ ، ۲ بزرگترین ، کوچکترین عدد ۵ رقمی را بنویسید و مقایسه کنید .

..... ○

۱۲- جواب را بدست آورید و برای جمع زیر مسئله بسازید.

$۹۰ + ۱۸۰ = \dots\dots\dots$

