



$$21 = (10 \times 2) + 1 = \text{شکل های شکل دهم}$$

۱- شکل چهارم را رسم کنید


شکل دهم از چند مربع ساخته می شود



(۱)



(۲)



(۳)

(۴)

۲- شکل چهارم را رسم کنید



(۱)



(۲)



(۳)

شکل بیستم از چند دایره ساخته شده

است

(۱۴)

(۳) عددی پنج رقمی بنویسید که دهگان های آن ۹ و صدگان هایش

صفر باشد

(۴) عددی شش رقمی بنویسید که یکان های آن ۵ دهگان هایش

۷ و صدگان هایش ۴ باشد.

(۵) الگوهای زیر را ادامه دهید.

۱۳۰، ۲۶۰، ۳۹۰، —، —، —

۵۰۰، ۴۰۰، —، —، —

۷۰۰، ۶۵۰، ۶۰۰، —، —، —