



موضوع:

تاریخ

نام و نام خانوادگی



هدف:

۱- $\frac{2}{6}$ واحد مانده به عدد ۴ را روی محور نشان دهید سپس آن را به صورت عدد مخلوط بنویسید.

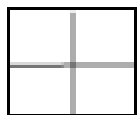


۲- عدد مخلوط $3\frac{2}{5}$ را به روی شکل و محور نشان دهید.

۳- هر یک از زمان های زیر را به صورت عدد مخلوط بنویسید.



۴- عدد مخلوط مربوط به شکل زیر را بنویس.



بازخورد:

Handwriting practice area with a dashed border and three horizontal lines.

