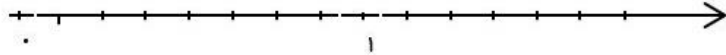


نام و نام خانوادگی:

۱- حاصل جمع و تفریق را با کمک محور به دست آور.

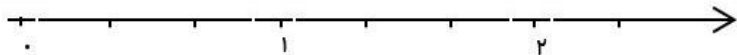
$$\frac{6}{8} + \frac{4}{8} =$$



$$\frac{3}{4} + \frac{1}{4} =$$



$$\frac{3}{3} - \frac{1}{3} =$$



۲- الینا و مادرش $\frac{6}{8}$ از سبزی ها را پاک کردند. الینا $\frac{2}{8}$ از سبزی ها را پاک کرد. چه کسری از سبزی ها را مادرش پاک کرد؟ چه کسری از سبزی ها هنوز پاک نشده است؟

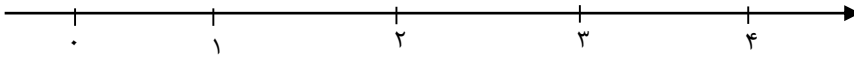
۳- جاهای خالی را کامل کنید.

الف) $\frac{18}{7}$ یعنی تا $\frac{1}{7}$

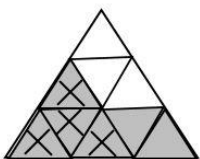
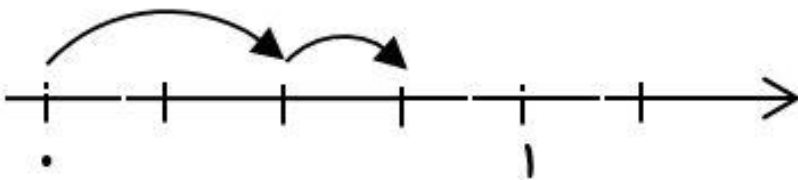
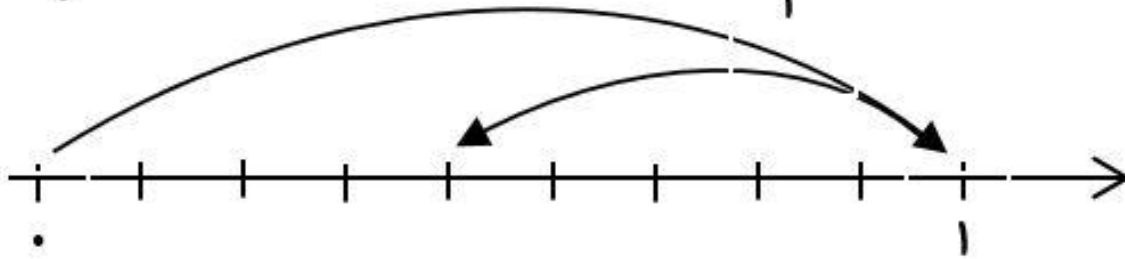
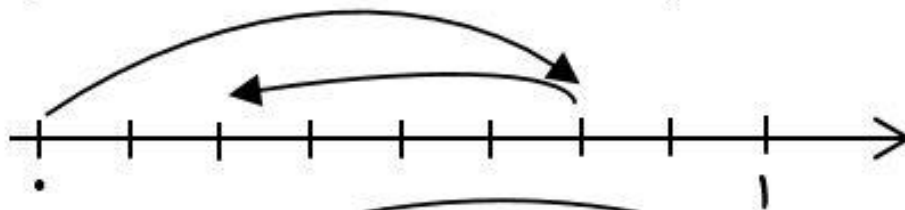
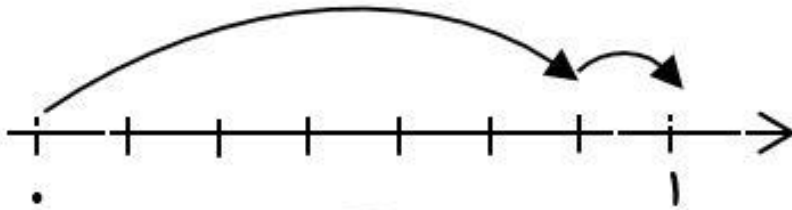
ب) یعنی ۱۳ تا $\frac{1}{9}$

ج) $\frac{36}{5}$ یعنی ۳۶ تا

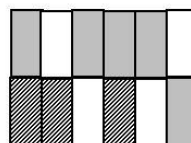
۴- مانده به عدد ۴ را روی محور نشان بده.



۵- برای محورها و شکل‌های زیر جمع یا تفریق مناسب بنویس.



$$\underline{\quad} - \underline{\quad} = \underline{\quad}$$



$$\underline{\quad} + \underline{\quad} = \underline{\quad}$$