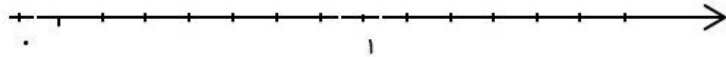



۱- حاصل جمع و تفریق را با کمک محور به دست آور.

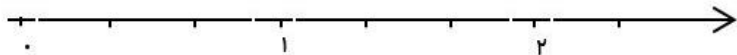
$$\frac{6}{8} + \frac{4}{8} =$$



$$\frac{3}{4} + \frac{1}{4} =$$



$$\frac{3}{3} - \frac{1}{3} =$$



۲- الینا و مادرش  $\frac{6}{8}$  از سبزی‌ها را پاک کردند. الینا  $\frac{2}{8}$  از سبزی‌ها را پاک کرد. چه کسری از سبزی‌ها را مادرش پاک کرد؟ چه کسری از سبزی‌ها هنوز پاک نشده است؟

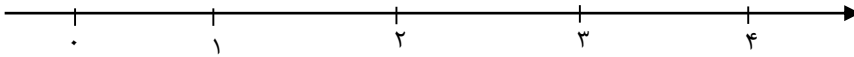
۳- جاهای خالی را کامل کنید.

الف)  $\frac{18}{7}$  یعنی ..... تا  $\frac{1}{7}$

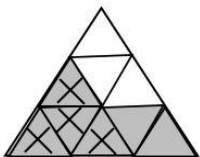
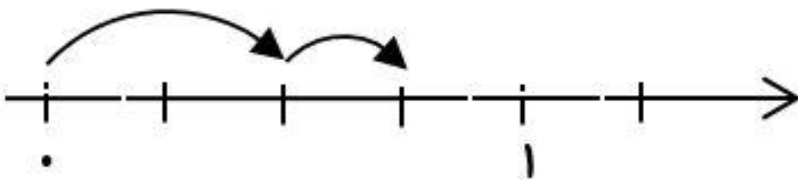
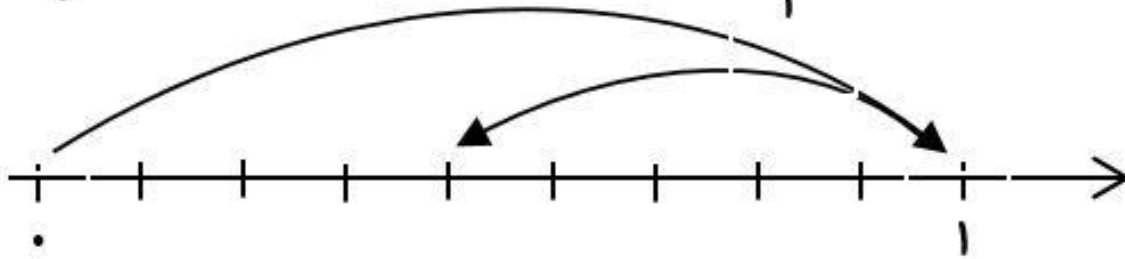
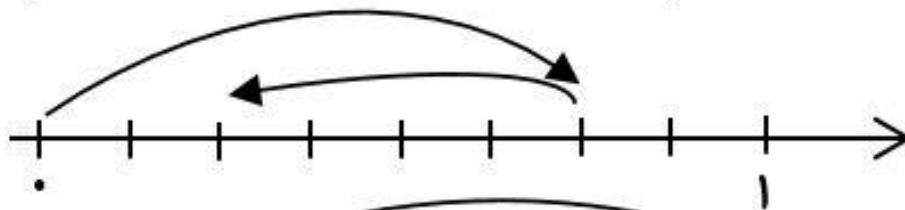
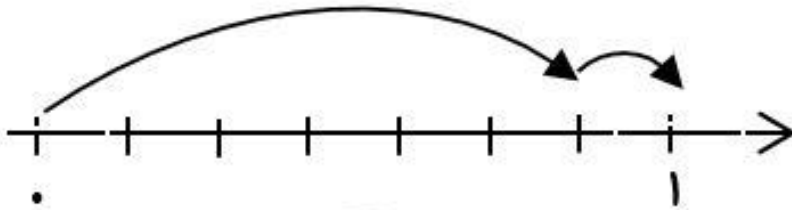
ب) ..... یعنی ۱۳ تا  $\frac{1}{9}$

ج)  $\frac{36}{5}$  یعنی ۳۶ تا .....

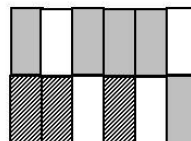
۴- مانده به عدد ۴ را روی محور نشان بده.



۵- برای محورها و شکل‌های زیر جمع یا تفریق مناسب بنویس.



\_\_\_\_\_ - \_\_\_\_\_ = \_\_\_\_\_



\_\_\_\_\_ + \_\_\_\_\_ = \_\_\_\_\_