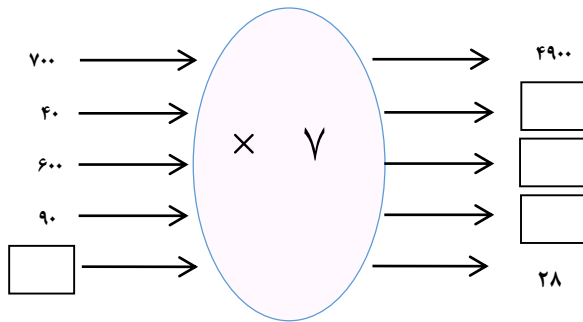


۱- در جای خالی عدد مناسب قرار دهید.



۲-  $\frac{1}{3}$  مانده به عدد ۴ را روی محور نشان بدهید، سپس عدد مخلوط را در کادر زیر بنویسید.



۳- مقایسه کنید.

$$\frac{13}{15} \bigcirc \frac{13}{18}$$

$$23100423 \bigcirc 2390423$$

$$\frac{7}{8} - \frac{2}{8} \bigcirc \frac{5}{8}$$

$$\frac{1}{5} \bigcirc \text{ربع}$$


$$560000 \bigcirc 80 \times 700$$

$$\frac{4}{4} \bigcirc 2$$


۴- کسری بنویس که صورت آن ۵ و مخرج آن چهار برابر صورت باشد.




۵- با توجه با الگوی زیر:



(۱)



(۲)



(۳)

(۴)

الف) شکل شماره چهارم را رسم کنید.

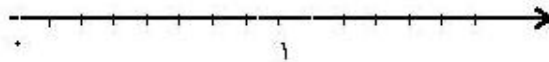
ب) شکل شماره دهم از چند مربع تشکیل شده است؟

۶- جدول زیر را کامل کنید.

	بزرگترین عدد پنج رقمی بدون تکرار ارقام
	عددی هفت رقمی که یکان آن ۲، دهگان آن دو برابر یکان و صدگان آن سه برابر یکان و بقیه رقم ها ۹ می باشد.
	$۶۰۰۰۰۰۰ + ۷۰۰ + ۳۰ + ۱۰ + ۹$

۷- حاصل جمع و تفریق را با کمک محور به دست آورید.


$$\frac{6}{8} + \frac{4}{8} =$$



$$\frac{3}{4} + \frac{1}{4} =$$



$$\frac{3}{3} - \frac{1}{3} =$$

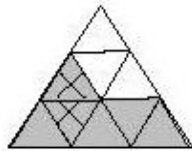

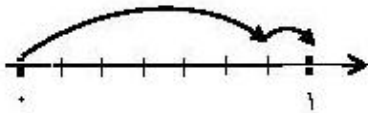


۸- درس  $\frac{1}{9}$  باغچه را گل رز کاشته است. آوینا  $\frac{4}{9}$  باغچه را گل لاله کاشته است.

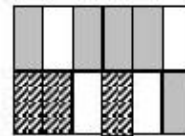
الف) چه کسری از باغچه گل کاری شده است؟

ب) چه کسری از باغچه گل کاری نشده است؟

۹ - برای محورهای و شکل‌های زیر جمع یا تفریق مناسب بنویسید.



\_\_\_\_\_



\_\_\_\_\_ + \_\_\_\_\_