




کتاب ریاضی (1) - Read-only.pdf



۲- کدام شکل، کسر کوچکتر از $\frac{1}{2}$ را نشان می دهد؟

۳- کلاس چهارم (ا) ۳۶ نفر و کلاس چهارم (ب) ۳۰ نفر دانش آموز دارد. $\frac{1}{3}$ دانش آموزان هر کلاس هندبال بازی می کنند. کدام کلاس تعداد دانش آموزانی که هندبال بازی می کنند بیشتر است؟

۴- در یک کلاس ۳۰ نفره $\frac{1}{3}$ دانش آموزان فوتبال بازی می کنند. در کلاس دیگر، که آن هم ۳۰ دانش آموز دارد، $\frac{1}{4}$ دانش آموزان فوتبال بازی می کنند. محمود می گوید چون $\frac{1}{3}$ از $\frac{1}{4}$ بزرگ تر است، پس در کلاس اول تعداد بیشتری فوتبال بازی می کنند. آیا محمود درست است؟ چرا!

بِسْمِ اللَّهِ الرَّحْمَنِ الرَّحِيمِ

پیام تسلیت
جناب آقای ...
با نهایت تألم و تأثر ...
خبر درگذشت ...
را به دردتان ...
پیام تسلیت ...
جناب آقای ...
با نهایت تألم و تأثر ...
خبر درگذشت ...
را به دردتان ...

کتاب ریاضی (1) Read-only.pdf




تفریق

۱- کدام شکل، کسر بزرگ تر از $\frac{1}{2}$ را نشان می دهد؟

۲- کدام شکل، کسر کوچک تر از $\frac{1}{2}$ را نشان می دهد؟

۳- کلاس چهارم (ا) ۳۶ نفر و کلاس چهارم (ب) ۳۰ نفر دانش آموز دارد. $\frac{1}{4}$ دانش آموزان هر کلاس هندبال بازی می کنند. در کدام کلاس تعداد دانش آموزانی که هندبال بازی می کنند بیشتر است؟

۴- در یک کلاس ۳۰ نفره $\frac{1}{4}$ دانش آموزان فوتبال بازی می کنند. در کلاس دیگر، که آن هم ۳۰ دانش آموز دارد دانش آموزان فوتبال بازی می کنند. محمود می گوید چون $\frac{1}{4}$ از $\frac{1}{2}$ بزرگ تر است، پس در کلاس اول تعداد بیشتری فوتبال بازی می کنند. آیا حرف محمود درست است؟ چرا؟



عدد باین کسر (خرج) چه چیزی را مشخص می کند؟


۳- چرا $\frac{1}{10} < \frac{1}{8}$ است؟ توضیح دهید.

۲- چگونه با رسم شکل، $\frac{2}{3}$ از $\frac{1}{5}$ تا را پیدا می کنید؟ توضیح دهید.

تعداد کل قسمت ها که واحد نشان می

اگر صورت کسرها یکی باشد

خرج کوچک تر دست



۱- کدام شکل، کسر بزرگ تر از $\frac{1}{4}$ را نشان می دهد؟



الحمد لله

سوره الفاتحه

کتاب دانش (1) Read only pdf

تمرین

۱- کدام شکل، کسر بزرگ تراز $\frac{1}{3}$ را نشان می دهد؟

۲- کدام شکل، کسر کوچک تراز $\frac{1}{3}$ را نشان می دهد؟

۳- کلاس چهارم (آ) ۳۶ نفر و کلاس چهارم (ب) ۳۰ نفر دانش آموز دارد. در کدام کلاس تعداد دانش آموزانی که هندبال بازی می کنند بیشتر است؟

۴- در یک کلاس ۳۰ نفره $\frac{1}{3}$ دانش آموزان فوتبال بازی می کنند. در کلاس دانش آموزان فوتبال بازی می کنند. محدود می گوید چون $\frac{1}{3}$ از $\frac{1}{3}$ بزرگ تر است. می کنند. آیا حرف محدود درست است؟ چرا!



مرور فصل

فرهنگ نوشتن



۱- کسر $\frac{1}{8}$ یعنی چه؟ توضیح دهید. یعنی یک قسمت از ۸ قسمت مساوی.

۲- عدد بالای کسر (صورت) چه چیزی را مشخص می‌کند؟ رنگ بشماره ۵، کوبیده شده و ...

عدد پایین کسر (مخرج) چه چیزی را مشخص می‌کند؟ به ۱۰ قسمت تقسیم کنیم

۳- چرا $\frac{1}{8} < \frac{1}{10}$ است توضیح دهید.

۴- چگونه با رسم شکل، $\frac{2}{3}$ از ۱۵ را پیدا می‌کنید؟ توضیح دهید.

مرور فصل

فرهنگ نوشتن



۱- کسر $\frac{1}{8}$ بهی چه؟ توضیح دهید. یعنی یک قسمت از ۸ قسمت مساوی.

۲- عدد بالای کسر (صورت) چه چیزی را مشخص می‌کند؟ رنگ بشماره ۵ ، آورده شده و ...

عدد پایین کسر (مخرج) چه چیزی را مشخص می‌کند؟

۳- چرا $\frac{1}{10} < \frac{1}{8}$ است؟ توضیح دهید.

۴- چگونه با رسم شکل، $\frac{2}{3}$ از ۱۵ تا را پیدا می‌کنید؟ توضیح دهید.

