



موضوع:

تاریخ

نام و نام خانوادگی

هدف:

۱- درستی و نادرستی جملات زیر را مشخص کنید.

الف) عدد ۳ و $\frac{1}{4}$ را می توان به صورت ۴ واحد روی محور نشان داد. (صحیح / غلط)

ب) در عدد مخلوط $1\frac{1}{4}$ ، بخش کسری بیشتر از یک واحد است. (صحیح / غلط)

ج) در محور اعداد، فاصله بین عدد ۲ و ۳ برابر با یک واحد است. (صحیح / غلط)




د) در محور اعداد، عدد $2\frac{1}{3}$ بین اعداد ۲ و ۳ قرار می گیرد. (صحیح / غلط)

۲- عدد $3\frac{1}{3}$ واحد مانده به عدد ۴ را روی محور اعداد نشان داده و یک شکل برای آن رسم کنید.



۳- رضا دو مستطیل هم اندازه کشید، یکی را به ۴ قسمت مساوی و دیگری را به ۶ قسمت مساوی تقسیم کرد. اگر او یک قسمت از هر مستطیل را رنگ کند، با رسم شکل کسر مربوط به قسمت رنگ شده در هر مستطیل را بنویسید.

۴- با استفاده از دو مستطیل زیر، کسر $\frac{2}{4}$ و $\frac{5}{6}$ را با هم مقایسه کرده و نشان دهید که کدام کسر بزرگتر است. (راهنمایی: از روش حل مساله ساده تر استفاده کنید).



بازخورد:

Four horizontal lines for writing feedback.

