



۱) حاصل ضرب های زیر را به صورت مساحت به دست آورید


$$\begin{array}{r} ۲۹ \\ \times ۱۵ \\ \hline \end{array}$$



$$\begin{array}{r} ۱۷ \\ \times ۴ \\ \hline \end{array}$$



$$\begin{array}{r} ۴۷ \\ \times ۱۴ \\ \hline \end{array}$$



(۲) حاصل ضرب های زیر را به صورت ضربی به دست آورید

$$\begin{array}{r} 18 \\ \times 5 \\ \hline \end{array}$$

$$\begin{array}{r} 14 \\ \times 2 \\ \hline \end{array}$$

$$\begin{array}{r} 121 \\ \times 4 \\ \hline \end{array}$$

$$\begin{array}{r} 235 \\ \times 2 \\ \hline \end{array}$$

$$\begin{array}{r} 31 \\ \times 29 \\ \hline \end{array}$$

$$\begin{array}{r} 55 \\ \times 12 \\ \hline \end{array}$$

(۳) حاصل عبارت های زیر را بدست آورید.

$$۵۰ \times ۳۰ =$$

$$۵۵۰ \times ۱۰۰ =$$

$$۱۰ \times ۵ \times ۷ =$$

$$۵ \times ۱۰۰ \times ۲۰ =$$

$$۹۰ \times ۹۰۰ =$$

$$۳۵۰ \times ۱۰ =$$

$$۱۲ \times ۲۰ =$$

$$۵۰ \times ۳۰ =$$

$$۲۵ \times ۳۰ =$$

$$۲۵ \times ۲۰۰ =$$