

یا لطیف


عالم وی

مدارس هزاره سوم

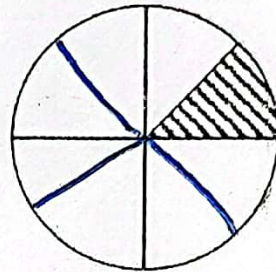
نام و نام خانوادگی
کلاس چهارم

شیرین عسل (۲-۳)

۱- چه کسری از شکل های زیر رنگ شده است؟



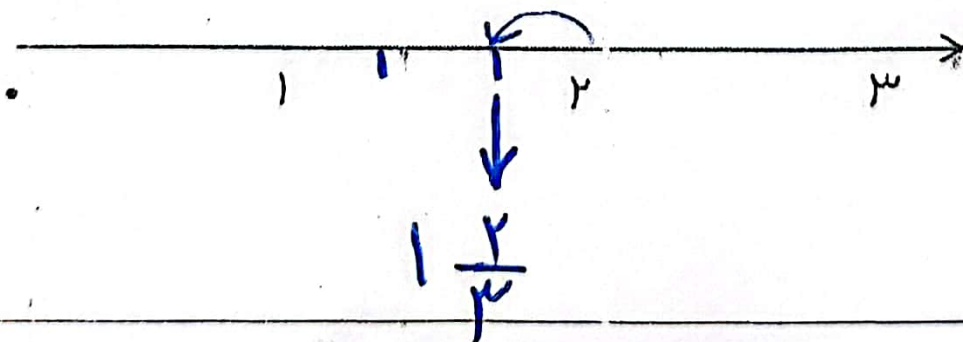
$$\frac{1}{12}$$



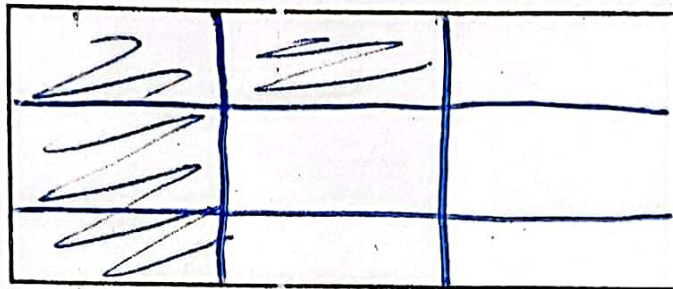
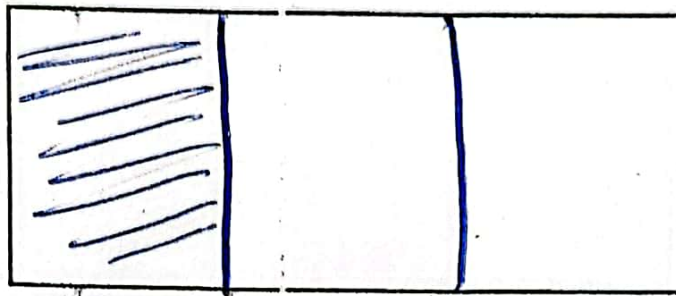
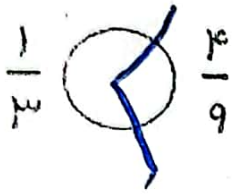
$$\frac{1}{8}$$

۲- عبارت روپه رو را روی محور نشان بده.

$\frac{1}{3}$ واحد مانده به عدد ۲



۳- کسرهای زید را مقایسه کرده و آن‌ها را روی شکل نشان بده.



۴- کسرهای زید را ساده کن.

$$\frac{16 \div 2}{30 \div 2} = \frac{8 \div 2}{15 \div 2} = \frac{4 \div 2}{10 \div 2} = \frac{2}{5}$$

$$\frac{75 \div 5}{125 \div 5} = \frac{15 \div 5}{25 \div 5} = \frac{3}{5}$$

$$\frac{140 \div 14}{140 \div 14} = \frac{14 \div 7}{42 \div 7} = \frac{2 \div 2}{6 \div 2} = \frac{1}{3}$$