



نام و نام خانوادگی: \_\_\_\_\_ تاریخ: \_\_\_\_\_  
 موضوع: \_\_\_\_\_ هدف: \_\_\_\_\_

تاریخ: \_\_\_\_\_ نام و نام خانوادگی: \_\_\_\_\_  
 مروری بر فصل اول ریاضی چهارم دبستان

۱۲۶۴۰۵۷۸۹

۱- با توجه به عدد رو به رو، به پرسش های زیر پاسخ دهید.  
 الف) این عدد چند رقمی است؟  
 ب) کدام رقم ها در مرتبه ی هزارها قرار دارد؟  
 ج) عدد (۲) در چه مرتبه ای قرار دارد؟  
 د) کدام عدد از نظر ارزش مکانی کوچک تر از بقیه است؟  
 ه) این عدد را با حروف بنویسید.

۲- عددی را که هر شکل نشان می دهد، بنویسید.

هزارها یکی

میلیون ها هزارها یکی

۳- کوچک ترین و بزرگ ترین عدد پنج رقمی بدون تکرار ارقام که با رقم های ۸، ۳، ۰، ۶ و ۴ می توان نوشت را بنویسید.

۴- پس از کشف الگویابی که در رسم شکل ها وجود دارد، بنویسید که شکل ششم با چند دایره درست می شود؟

شکل (۱)

شکل (۲)

شکل (۳)

شکل (۴)

\_\_\_\_\_

شکل (۶)

۵- الگوی رو به رو را ادامه دهید.

۱۱۰، ۲۳۰، ۳۵۰، , ,

۶- هر مکعب نشان دهنده ی عدد ۱۰۰۰ است. عددی را که هر شکل نشان می دهد را بنویسید.


\_\_\_\_\_

\_\_\_\_\_

\_\_\_\_\_

\_\_\_\_\_

بارقم: \_\_\_\_\_  
 باحروف: \_\_\_\_\_





نام و نام خانوادگی: \_\_\_\_\_ تاریخ: \_\_\_\_\_  
 موضوع: \_\_\_\_\_ هدف: \_\_\_\_\_

« صفحه دوم »

۷- تساوی های زیر را کامل کنید.

$60000 + 30000 + 9000 + 800 + 40 + 5 =$   
 $90000 + 7000 + 300 + 2 =$   
 $20000 + 40000 + 30000 + 9 + 100 + 20 + 6000 + 600 + 60 =$   
 $395008 =$   
 $980980 =$

---

۹- ماشین ورودی و خروجی را کامل کنید.

5
7
9

 $\xrightarrow{\times 100}$ 


 $\xrightarrow{\times 5}$ 


 $\xrightarrow{+ 500}$ 


 $\xrightarrow{- 200}$ 


---

۱۰- جمع و تفریق های زیر را انجام دهید.

3500024
+ 4200000
_____

69008
- 36000
_____

---

۱۱- جدول زیر را کامل کنید.

4	3	6		9		
16			20		44	320

 $\times 4$

---

۱۲- بزرگ ترین عدد زوج ۷ رقمی را بنویسید.

---


۱۳- مقایسه کنید.

$701231$    $698012$      
  $85012081$    $85012018$      
  $390750$    $3907005$

---

۱۴- محیط شکل های زیر را حساب کنید.

موفق باشید
۶ سانتی متر
۷ سانتی متر








نام و نام خانوادگی

تاریخ

موضوع:

هدف:





نام و نام خانوادگی

تاریخ

موضوع:

هدف:

