

ریاضی

۱ به عدد دویست و سی و دو میلیون و هفتصد و چهل و هشت هزار و نوزده، ۴۹۸۷۶۲۳ تا اضافه می‌کنیم. عدد جدید را با رقم و حروف بنویسید و روی چرتکه نشان دهید.

میلیون‌ها	هزارها	یکی‌ها

با رقم:

با حروف:

۲ عددهای خواسته شده را بنویسید.

الف) کوچک‌ترین عدد ۷ رقمی با رقم‌های ۳، ۹ و ۴. (بدون تکرار)

ب) بزرگ‌ترین عدد ۹ رقمی که رقم‌های هزار آن ۹، ۱ و ۸ باشد. (با تکرار)

پ) چهل و نه هزار تا بیش‌تر از عدد نه میلیون و نود و نه هزار و هشتاد و یک.

۳ جاهای خالی را با عدد مناسب پر کنید.

الف) ده تا ۳۰۰ هزار تا می‌شود

ب) سی تا چهار میلیون تا می‌شود

پ) ۷ تا شصت میلیون تا می‌شود

۴ حاصل عبارات زیر را به دست آورید.

$$700000 \times 20 =$$

$$900000 \div 300 =$$

$$\begin{array}{r} 1000000 \\ - 9367124 \\ \hline \end{array}$$

$$\begin{array}{r} 29843719 \\ + 98437192 \\ \hline \end{array}$$

۵ با توجه به الگوی زیر شکل ۴۰۰ از چند گلبرگ تشکیل شده است؟



(۱)



(۲)



(۳)

هفتم چند پایه دارد؟

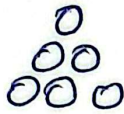
شکل



(۱)



(۲)



(۳)

...

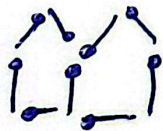
?

(۷)

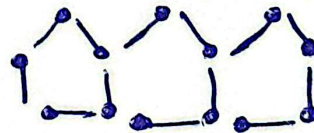
شکل یازدهم چند جیب کبوت دارد؟



(۱)



(۲)



(۳)

?

(۱۵)