

ریاضی چهارم ابتدایی

موضوع:

تاریخ:

نام و نام خانوادگی:

تمرین و مرور

هدف:

۱۲۶۴۰۵۷۸۹

۱- با توجه به عدد رو به رو، به پرسش های زیر پاسخ دهید.

(الف) این عدد چند رقمی است؟

(ب) کدام رقم ها در مرتبه ی هزارها قرار دارد؟

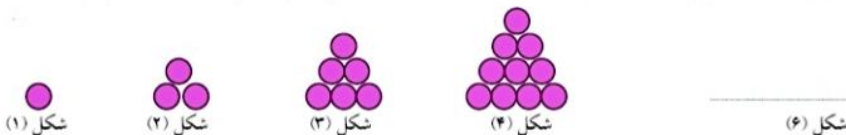
(ج) عدد (۲) در چه مرتبه ای قرار دارد؟

(د) کدام عدد از نظر ارزش مکانی کوچک تر از بقیه است؟

(ه) این عدد را با حروف بنویسید.

۲- کوچک ترین و بزرگ ترین عدد پنج رقمی بدون تکرار ارقام که با رقم های ۸، ۳، ۰، ۶ و ۴ می توان نوشت را بنویسید.

۳- پس از کشف الگویابی که در رسم شکل ها وجود دارد، بنویسید که شکل ششم با چند دایره درست می شود؟



۴- الگوی رو به رو را ادامه دهید.

۱۱۰، ۲۳۰، ۳۵۰، ، ،

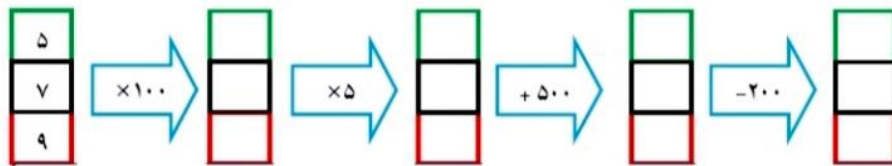
۵- مقایسه کنید.

۷۰۱۲۳۱ ۶۹۸۰۱۲

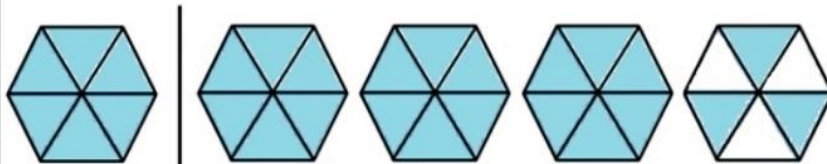
۸۵۰۱۲۰۸۱ ۸۵۰۱۲۰۱۸

۳۹۰۷۵۰ ۳۹۰۷۰۰۵

۶- ماشین ورودی و خروجی را کامل کنید.



۷- عدد مخلوط مربوط به شکل زیر را بنویسید.



بازخورد:

Blank lines for feedback.

