



ریاضی چهارم ابتدایی

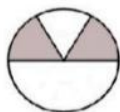
موضوع:

تاریخ:

نام و نام خانوادگی:

تمرین و مرور

هدف:



۱- گزینه‌ی صحیح را انتخاب کنید.

الف) شکل روبرو چه کسری را نشان می‌دهد؟

۱) $\frac{1}{3}$ ۲) $\frac{2}{6}$ ۳) $\frac{1}{3}$ ۴) موارد ۲ و ۳

ب) در یک عدد ۷ رقمی اولین رقم سمت چپ عدد در چه طبقه و مرتبه‌ای است:

۱) صدگان هزار ۲) یکان میلیون ۳) دهگان میلیون ۴) دهگان هزار

ج) ثلث عدد ۲۴ کدام است؟

۱) ۸ ۲) ۶ ۳) ۱۲ ۴) ۳

د) خروجی ماشین کدام عدد است؟

۱) ۱۰ ۲) ۴ ۳) ۵ ۴) ۲

۸ \rightarrow $\times 2$ \rightarrow $+ 4$ \rightarrow $+ 5$ \rightarrow \square

۲- مقایسه کرده و علامت مناسب بگذارید.

خمس \square نصف همان چیز $48050 \square 200980$

$2 \frac{4}{8} \square 2 \frac{4}{5}$ $1 \square \frac{8}{14}$

$2 \times \frac{4}{10} \square 2 \times \frac{2}{10}$ $\frac{2}{7} \square \frac{6}{21}$

۳- با توجه به عدد (۸۰۷۵۳۱۴) به سؤال‌ها پاسخ دهید.

الف) عدد را به حروف بنویسید.

ب) برای خواندن این عدد چه کردید؟

ج) ارزش مکانی رقم ۵ چیست؟ چرا؟

د) کدام رقم کمترین ارزش را دارد؟

ه) رقم ۷ یعنی چه؟

۴- جمله‌های زیر را کامل کنید.

- $\frac{8}{12}$ یعنی یا

- در مقایسه دو عدد اولین مرحله

- محیط یک مربع برابر است با

- برای ساده کردن کسر باید

۵- برای شکل داده شده سه کسر مساوی بنویسید.



_____ = _____ = _____

بازخورد:



ریاضی چهارم ابتدایی

موضوع:

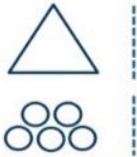
تاریخ:

نام و نام خانوادگی:

تمرین و مرور

هدف:

۶- واحد را کامل کنید با توجه به واحد کسر و عددهای مخلوط خواسته شده را نشان دهید.



$$2\frac{1}{3}$$



$$2\frac{2}{5}$$

$$1\frac{3}{4}$$

$$1\frac{2}{6}$$

۷- حاصل عبارتهای زیر را به دست آورید. (حاصل را ساده کنید.)

$$\frac{2}{4} - \frac{5}{12} =$$

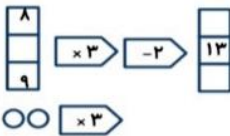
$$\frac{2}{15} + \frac{2}{5} =$$

۸- با توجه به رقمهای ۳، ۰، ۴، ۷ زیر را بنویسید.

(الف) بزرگترین عدد پنج رقمی فرد:

(ب) کوچکترین عدد چهاررقمی زوج:

۹- ماشینهای ورودی و خروجی زیر را کامل کنید.



۱۰- یک کشاورز یزدی $\frac{4}{7}$ زمین خود را گندم و خمس آن را جو کاشت. چه کسری از زمین کاشت نشده است؟

۱۱- با توجه به الگوی داده شده به سوالات پاسخ دهید.

(الف) رابطه‌ی بین الگو را بنویسید.

(ب) شکل ۱۰ از چند دایره درست شده می‌شود؟

(ج) کدام مرحله از ۲۶ دایره درست می‌شود؟



۱۲- موارد زیر را به صورت عدد مخلوط بنویسید.

(ب) ۳ کیلوگرم و ۱۴۵ گرم

(الف) ساعت ۶:۴۵

(د) ۵ سانتی‌متر و ۶ میلی‌متر

(ج) $\frac{2}{3}$ واحد مانده به عدد ۳

بازخورد:

Blank space for student feedback with horizontal lines.

