



ریاضی چهارم ابتدایی

موضوع:

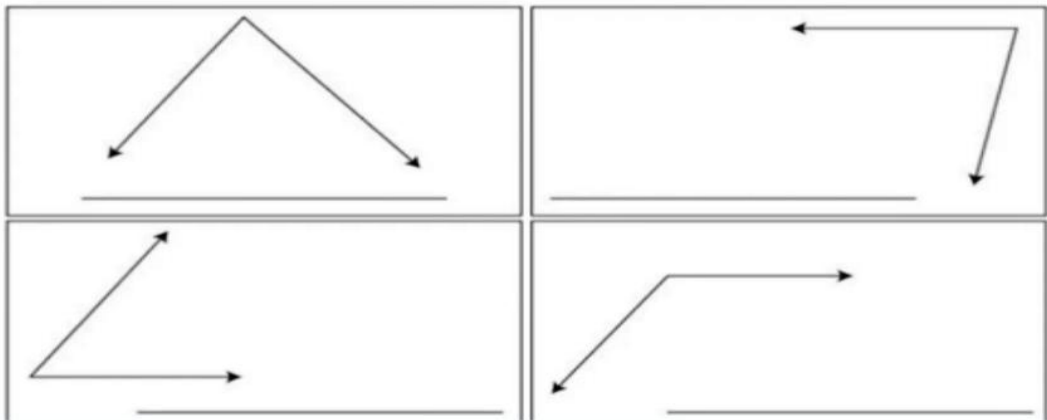
تاریخ

نام و نام خانوادگی

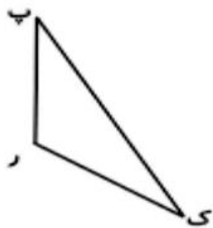
تمرین و مرور

هدف:

۱- زاویه های زیر را نامگذاری کنید و نام آن ها را به دو صورت بنویسید.



۲. تمام زاویه های مثلث زیر را به سه روش بخوانید.

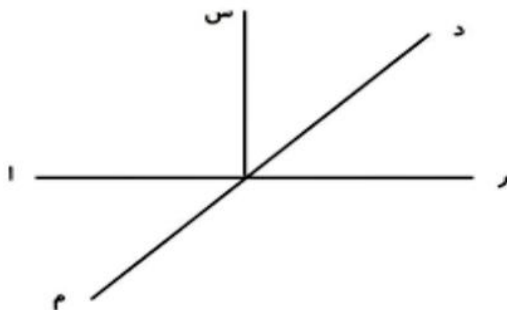


۱ }
۲ }
۳ }

۱ }
۲ }
۳ }

۱ }
۲ }
۳ }

۳. تمام زاویه های شکل مقابل را نام ببرید. (از الگویی که امروز یاد گرفتید استفاده کنید)



بازخورد:

Blank lines for student feedback.

