

کاربرگ زاویه

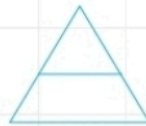

موضوع:

تاریخ

نام و نام خانوادگی

هدف:

۷ در شکل‌های زیر چند زاویه‌ی راست، باز و تند می‌بینید؟



۷

الف) هر زاویه یک و دو دارد.

ب) اگر ضلع‌های زاویه‌ای را از هم باز کنیم، اندازه‌ی زاویه می‌شود و اگر آنها را به هم نزدیک کنیم اندازه‌ی زاویه می‌شود.

پ) ۳ هفته یعنی روز یا ساعت یا دقیقه.

ت) ۲ سال یعنی روز و ساعت.

ث) ۳ ماه و ۴۰ روز بیشتر است یا ۳۱۲۰۰ دقیقه؟ (هر ماه را ۳۰ روز در نظر بگیرید.)

۸


ج) ۵۴۰۰۰ دقیقه چند روز و چند ساعت می‌شود؟ یعنی چند هفته؟

چ) ۱۷ روز، چند ساعت و چند دقیقه می‌شود؟

ح) ۱۴۰ روز چند هفته است؟

خ) ۳۳۶ ساعت چند هفته است؟

۹ با استفاده از گونیا مشخص کنید هر یک از شکل‌های زیر چند زاویه‌ی راست دارند؟



الف



ب



پ



ت

۹