



موضوع: کاربرد زاویه ۲

تاریخ

نام و نام خانوادگی

با استفاده از نقاله زاویه‌های خواسته شده را رسم کنید.

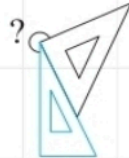
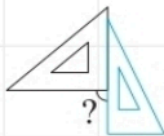
الف  $65^\circ$

ب  $35^\circ$

پ  $145^\circ$

ت  $120^\circ$

اندازه‌ی زاویه‌ی رسم شده را بیابید.



با استفاده از دو گونیا زاویه‌ها با اندازه‌های خواسته شده را بساز و رسم کن.

الف  $120^\circ$

ب  $105^\circ$

پ  $15^\circ$

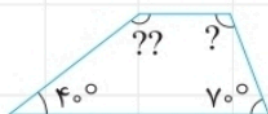
بدون استفاده از نقاله اندازه‌های زاویه‌های شکل‌های زیر را به دست آورید.



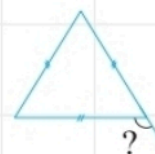
الف



ب



پ



ت