

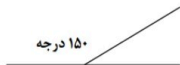
موضوع: ریاضی

تاریخ:



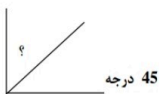
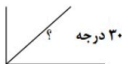
نام و نام خانوادگی:

هدف: تمرین

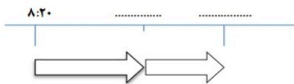
۱ - با توجه به شکل ، اندازه ی زاویه های خواسته شده را پیدا کنید و بنویسید



؟



۲ - با توجه به زمان های خواسته شده ، نمودار را کامل کنید تا به جواب برسید .



(الف) - ۵۰ دقیقه بعد از ساعت ۸:۲۰ =



(ب) - ۴۰ دقیقه قبل از ساعت ۱۱:۱۱ =

۳ - ' زمان های خواسته شده را بنویسید .



بازخورد:

