

موضوع: فارسی

تاریخ

نام و نام خانوادگی

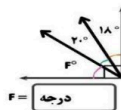
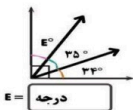
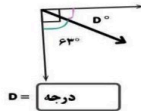
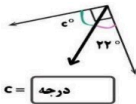
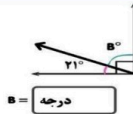
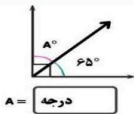
هدف: معنی شعر

۱- سپهر ساعت ۹:۵۵ دقیقه از خانه خارج شد و ساعت ۱۰:۲۰ دقیقه به پارک رسید او چند دقیقه در راه بوده است؟ (رسم نمودار)

۲- یک زاویه راست را به دو قسمت تقسیم کرده‌ایم اگر یکی از قسمت‌ها ۳۰ درجه باشد قسمت دیگر چند درجه است.

۳- ۵۰ دقیقه قبل و ۵۰ دقیقه بعد از ساعت ۱۹:۳۰ دقیقه را به کمک ساعت و نمودار زمان نشان دهید.

۴- اندازه زاویه خواسته شده را بدست آورید.



Blank space for writing the answer to question 4.

