




موضوع:

تاریخ:

نام و نام خانوادگی:

هدف:



محصول باغ انار آقای میرزایی ۲۲۸ جعبه‌ی ۳۵ کیلوگرمی است .  
محصول باغ او چند کیلوگرم انار است ؟

$$\begin{array}{r} 652 \\ 3 \overline{) \phantom{000}} \end{array}$$

تقسیم زیر را انجام دهید

$$\begin{array}{r} 955 \\ 35 \overline{) \phantom{000}} \end{array}$$

تقسیم زیر را انجام داده و سپس رابطه های آن را بنویسید.

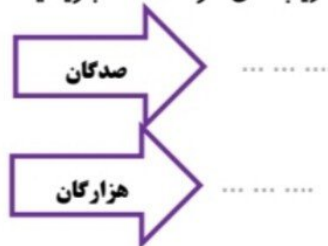
آیا مقسوم به مقسوم علیه بخش پذیر است ؟ چرا ؟

عدد ۸۶۳۴ را با تقریب های خواسته شده بنویسید . هر یک از جرم های زیر به صورت تقریبی چندتن است ؟

۴۶۴۸ کیلوگرم  $\Rightarrow$  .....

۲۹۸۷۴ کیلوگرم  $\Rightarrow$  .....

۷۳۲۴ کیلوگرم  $\Rightarrow$  .....



بازخورد:

Handwritten feedback area with a dashed border and several horizontal lines for writing.



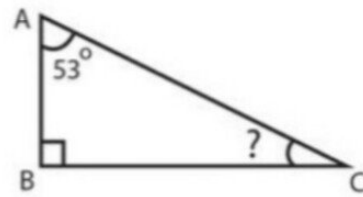
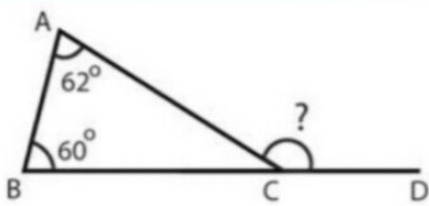
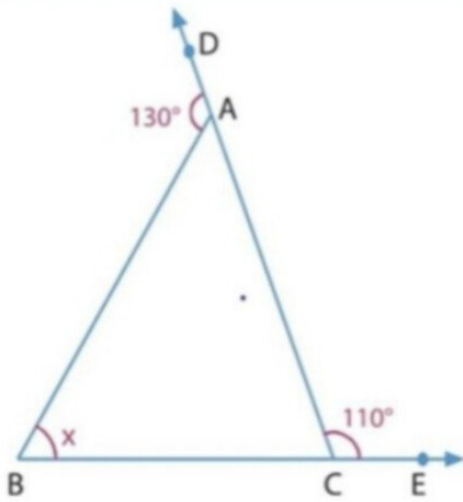
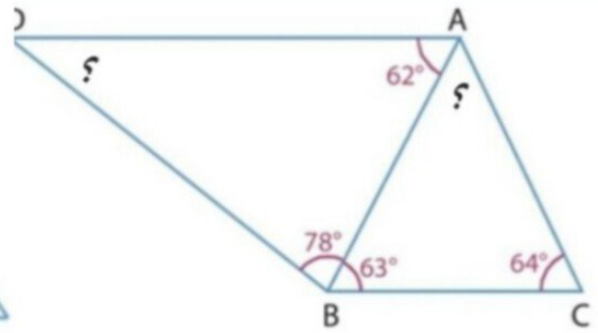
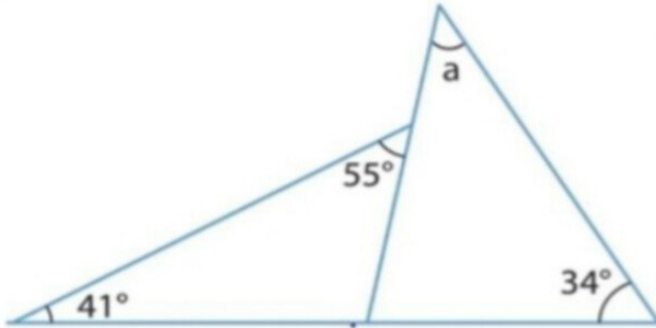


موضوع:

تاریخ:

نام و نام خانوادگی:

هدف:



Handwriting practice area with four horizontal lines.

