

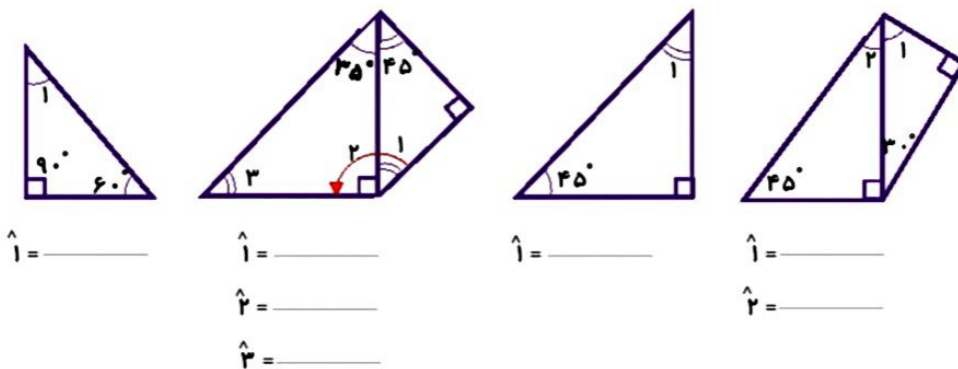
موضوع:

تاریخ:

نام و نام خانوادگی:

هدف:

- در هر شکل، زاویه‌های خواسته شده را حساب کنید. (در صورت نیاز از نقاله استفاده کنید.)



$\hat{1} =$ _____

$\hat{1} =$ _____

$\hat{1} =$ _____

$\hat{1} =$ _____

$\hat{2} =$ _____

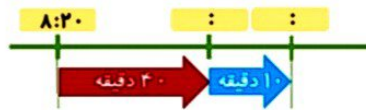
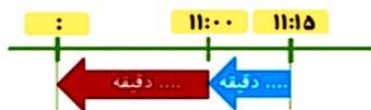
$\hat{2} =$ _____

$\hat{3} =$ _____

با توجه به زمان‌های خواسته شده، نمودار را کامل کنید تا به جواب برسید.

(ب) ۴۰ دقیقه قبل از ساعت ۱۱:۱۵ = _____

(الف) ۵۰ دقیقه بعد از ساعت ۸:۲۰ = _____

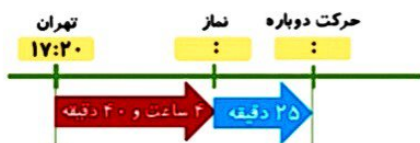


- زمان‌های خواسته شده را بنویسید.

7:45	۱۵ دقیقه بعد	<input type="text"/>	۲۰ دقیقه بعد	<input type="text"/>
1:20	۱۰ دقیقه قبل	<input type="text"/>	۵ دقیقه قبل	<input type="text"/>
11:30	۱ ساعت و ۲۰ دقیقه بعد	<input type="text"/>	۲ ساعت و ۳۰ دقیقه بعد	<input type="text"/>
4:10	۱ ساعت و ۱۰ دقیقه بعد	<input type="text"/>	۱۵ دقیقه قبل	<input type="text"/>
2:10	۲ ساعت و ۱۰ دقیقه بعد	<input type="text"/>	۱ ساعت و ۱۵ دقیقه قبل	<input type="text"/>

قطار تهران - مشهد ساعت ۱۷:۲۰ از تهران به سمت مشهد حرکت کرد، پس از ۴ ساعت و ۴۰ دقیقه برای نماز توقف

کرد و پس از ۲۵ دقیقه دیگر دوباره به راه افتاد. این قطار چه ساعتی برای نماز ایستاد؟ چه ساعتی دوباره به راه افتاد؟



بازخورد:





موضوع:

تاریخ:

نام و نام خانوادگی:

هدف:

- با توجه به اندازه‌های داده شده، اندازه‌ی پاره‌خط‌های مورد نظر را بدست آورید. و راه‌حل خود را بنویسید.

طول آ د = ----- سانتی‌متر ←

طول ب د = ----- سانتی‌متر ←

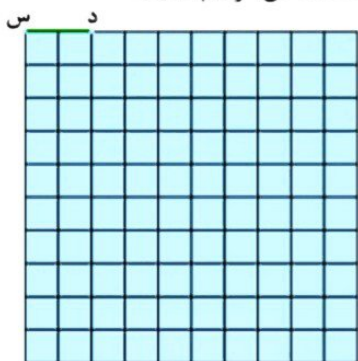
طول آ س = ----- سانتی‌متر ←



- دو قطعه چوب به طول‌های ۶۰ و ۳۰ سانتی‌متر داریم. با این دو قطعه چوب چه طول‌هایی می‌توانیم درست

کنیم؟ ۴ حالت مختلف را بنویسید. امکان برش دادن قطعه چوب‌ها وجود دارد؟

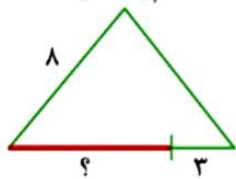
در صفحه‌ی شطرنجی زیر، پاره‌خط، (آ ب) را به اندازه‌ی چهار برابر پاره‌خط (د س) رسم کنید.



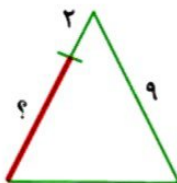
- پاره‌خط (ک ل) را به اندازه‌ی نصف پاره‌خط (آ ب) رسم کنید.

- پاره‌خط (ش ر) را به اندازه‌ی $\frac{3}{4}$ پاره‌خط (ک ل) رسم کنید.

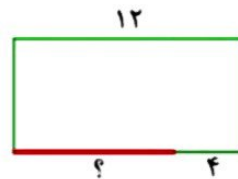
با توجه به اندازه‌های نوشته شده، طول پاره‌خطی را با علامت ؟ مشخص شده پیدا کنید.



مثلث متساوی الاضلاع



مثلث متساوی الساقین



مستطیل

- با سه خط‌کش به طول‌های ۲۰، ۳۰ و ۵۰ سانتی‌متر چه طول‌های مختلفی می‌توانیم بسازیم؟ شکل آن‌ها را

رسم کنید و یک عبارت جمع و یا تفریق بنویسید.

Blank area for drawing and writing.

