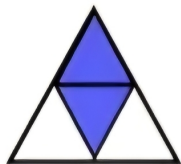



۱. چه کسری از شکل‌های زیر رنگ شده است؟







.....



.....




.....




.....

۲. به اندازه کسر خواسته شده از هر شکل رنگ کنید.



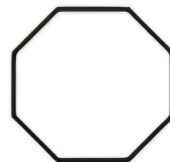
$\frac{1}{8}$



$\frac{2}{4}$



$\frac{3}{5}$



$\frac{5}{8}$

۳.  $\frac{3}{4}$  واحد بعد از ۲ را روی محور مشخص کنید و عدد مخلوط متناظر با آن را بنویسید.



۴.  $\frac{2}{3}$  واحد قبل از ۳ را روی محور مشخص کنید و عدد مخلوط متناظر با آن را بنویسید.



۵.  $\frac{1}{3}$  واحد بعد از ۲ را روی محور مشخص کنید و عدد مخلوط متناظر با آن را بنویسید. حالا بگو عدد مخلوط آن با پاسخ سوال ۴ چه تفاوتی دارد؟

